



COLEGIO ISABEL RIQUELME

U.T.P.

GUÍA DIGITAL N°14

ASIGNATURA: Historia, Geografía y Ciencias Sociales

CURSO: 1° Básico

DOCENTE: Maribel Medina Rebolledo

SEMANA: 10 al 14 de Agosto

DÍAS ATENCIÓN CONSULTAS: Martes y Jueves de 17:00 a 18:00 horas

CONTACTO: grupo de WhatsApp del curso y correo electrónico:

maribel.profe1basico2020@gmail.com (en caso de tener dudas)



QUERIDOS NIÑOS Y NIÑAS

Deseo te encuentres bien junto a tu familia, una nueva semana para poder compartir a distancia. He preparado este trabajo con mucho cariño porque se y confió en tu capacidad y la actitud que tienes por aprender cada día más.

Bendiciones cuídate mucho.

Cariñosamente tu Profesora Maribel Medina

1: OBJETIVO DE APRENDIZAJE Y CONTENIDOS CONCEPTUALES

OBJETIVO DE APRENDIZAJE	CONTENIDOS
<p>(OA 9) Identificar a Chile en mapas, incluyendo la cordillera de los Andes, el océano Pacífico, la ciudad de Santiago, su región, su capital y su localidad.</p>	<p>✓ Mapa de Chile</p>
OBJETIVO DE LA CLASE	HABILIDADES
<p><u>OA:</u> Identificar a Chile en mapas, incluyendo la cordillera de los Andes, el océano Pacífico, la ciudad de Santiago, su región, su capital y su localidad.</p>	<p>✓ Aplicar ✓ Identificar</p>

2: GUÍA

Globo terráqueo

Es la representación más parecida a la tierra.



Mapas

Podemos ver todos los continentes y océanos al mismo tiempo.



Mapas políticos: nos muestra los límites de países y/o regiones.



Mapa físico: nos muestra los ríos, montañas, lagos, cordilleras y vegetación.



Mapa físico



Mapa político



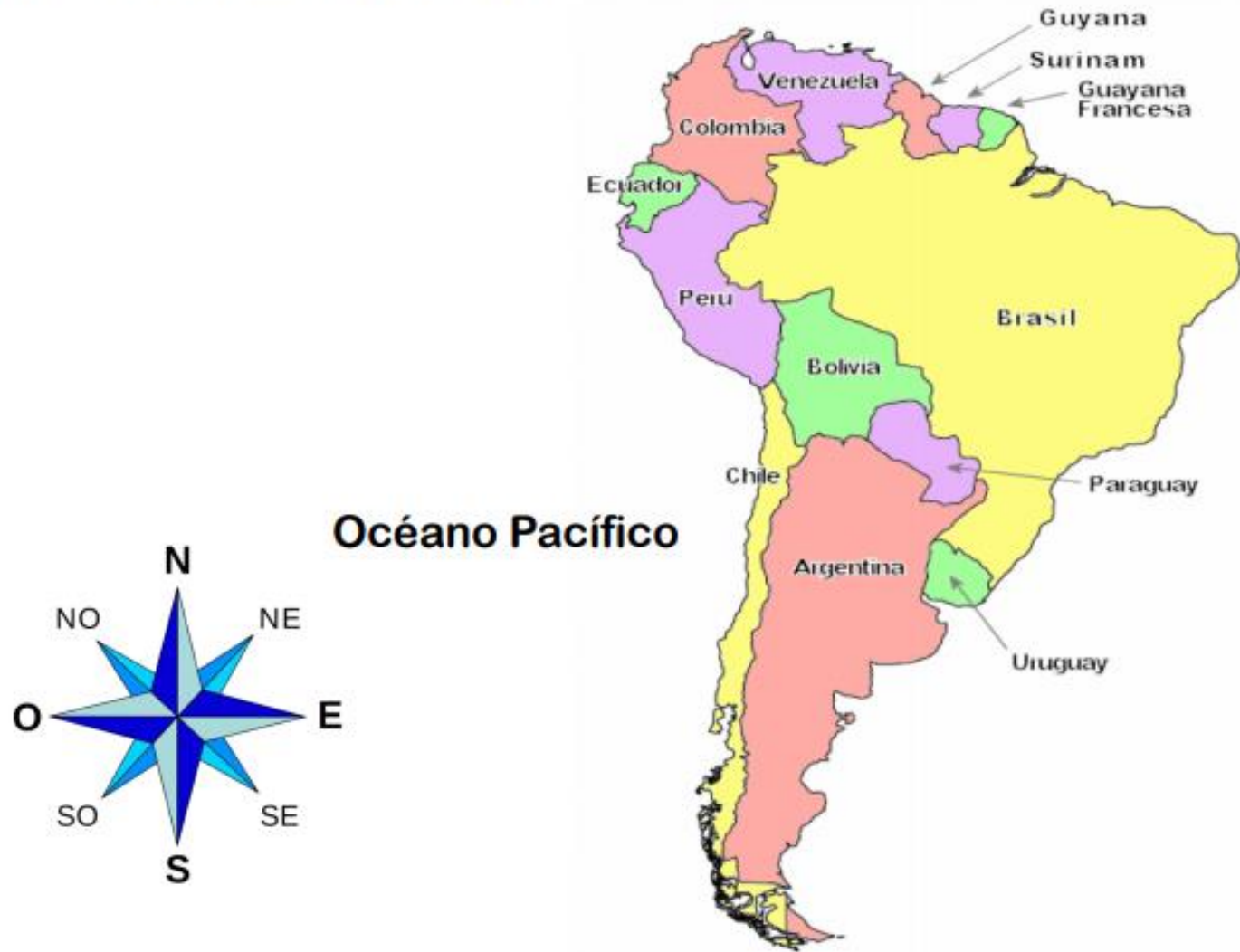
Chile está ubicado en América del sur



Chile está dividido en 16 regiones



Los países que limitan con Chile son:
Argentina, Perú y Bolivia.



Te invito a ver el siguiente video

[https://www.youtube.com/watch?v=vwGT
Eo7JmmQ&t=14s](https://www.youtube.com/watch?v=vwGT
Eo7JmmQ&t=14s)



3: TAREA

Ahora a trabajar recordando lo explicado y lo que tú fuiste recordando, revisa el material las veces que sea necesarios si tienes dudas

Tu puedes eres lo suficientemente capaz.

- 1.- Resuelve la guía presentada a continuación, recuerda que las respuestas debes escribirlas en tu cuaderno de asignatura.

1.- Nombre de la capital de Chile: _____

2.- Chile está dividido en: _____

3.-Nosotros vivimos en la región: _____

4.- El Océano que baña nuestras costas se llama: _____

5.- La cordillera que separa Chile de Argentina se llama: _____

Para esta actividad debes dibujar con la ayuda de un adulto en tu cuaderno el mapa de Chile como se muestra en la guía



Trabaja en el mapa de Chile.

1. Marca **Santiago**, con un punto rojo y escribe su nombre.
2. Pinta la **región donde vives** y escribe su nombre.
3. Marca la **capital de la región donde vives**, con un punto azul y escribe su nombre.
4. Marca la **localidad donde vives** con un punto verde y escribe su nombre.
5. Pinta el resto de Chile con un color claro.
6. Pinta celeste el mar y escribe el nombre del **océano Pacífico**.

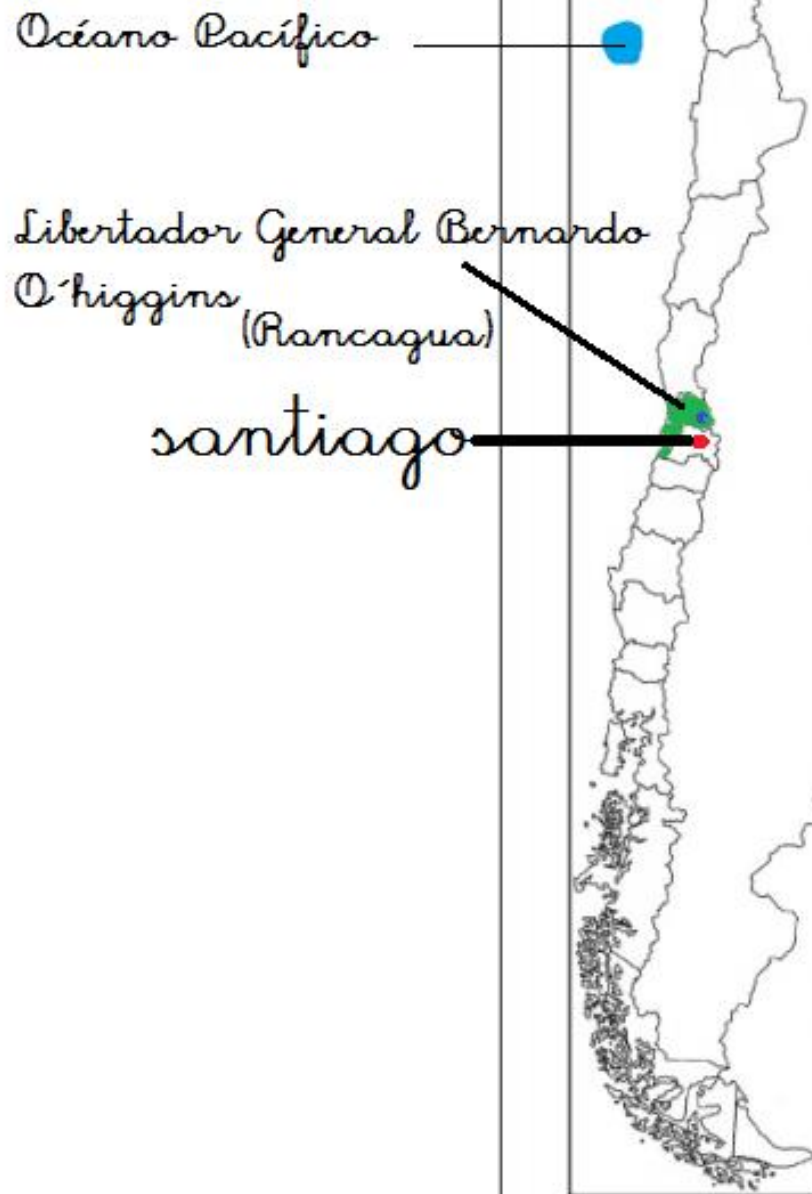
7. Responde:
 - a) ¿Tu región está al norte o al sur de Santiago?
 - b) Anota las regiones que limitan con la tuya:
por el norte: _____ .
por el sur: _____ .



Recuerda que tu Profesora esta dispuesta para ayudarte si tienes alguna duda o problema

4: SOLUCIONARIO

- 1.- Nombre de la capital de Chile: Santiago
- 2.- Chile está dividido en: 16 Regiones
- 3.- Nosotros vivimos en la región: Sexta región Libertador Bernardo O' Higgins
- 4.- El Océano que baña nuestras costas se llama: Océano Pacífico
- 5.- La cordillera que separa Chile de Argentina se llama: Cordillera de los Andes



Trabaja en el mapa de Chile.

1. Marca **Santiago**, con un punto rojo y escribe su nombre.
2. Pinta la **región donde vives** y escribe su nombre.
3. Marca la **capital de la región donde vives**, con un punto azul y escribe su nombre.
4. Marca la **localidad donde vives** con un punto verde y escribe su nombre.
5. Pinta el resto de Chile con un color claro.
6. Pinta celeste el mar y escribe el nombre del **océano Pacífico**.

7. Responde:

a) ¿Tu región está al norte o al sur de Santiago?

Al Sur de Santiago

b) Anota las regiones que limitan con la tuya:

por el norte: *Metropolitana*.

por el sur: *Maule*.

5: AUTOEVALUACIÓN

Estimados alumnos(as): Les solicito que se autoevalúen en las actividades desarrolladas en su hogar. En primer lugar se plantean indicadores respecto de su actitud frente al trabajo. Para responder marquen con un “X” en el nivel de la escala que usted considere representa su grado de acuerdo” para realizar esta autoevaluación deben escribirlo en tu cuaderno, con buena letra y en orden.



INDICADORES



Nombran su región

Nombran capital de Chile

Identifican en un mapa su región

Ubican en un mapa la capital de Chile



Logrado



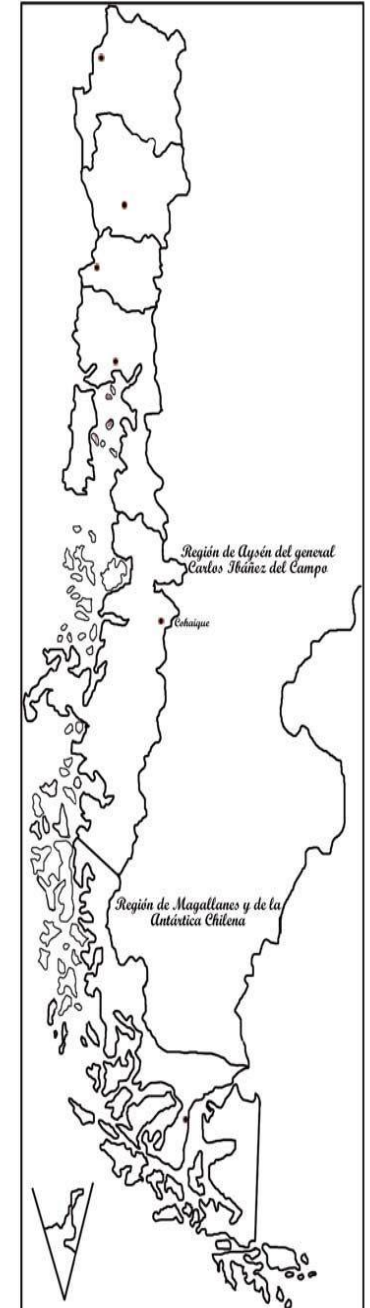
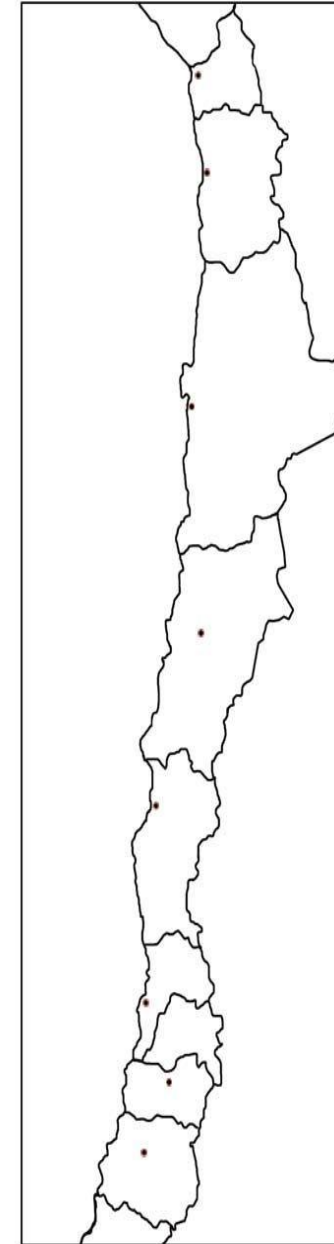
Por lograr

6: TICKET DE SALIDA

Indicador de Evaluación

Ubican y colorean la Cordillera de los Andes y el Océano Pacífico en un mapa de Chile

Dibuja el mapa de Chile, ubica la Cordillera de los Andes y Océano Pacífico.



RECUERDEN
CLASES ONLINE:
MARTES O JUEVES
MAÑANA: 11:30 HORAS
TARDE: 19:30 HORAS

