


BIENVENIDOS





GUÍA DIGITAL N°4

GUÍA

ASIGNATURA: Educación Matemática

CURSO: 1° Básico.

DOCENTE: María del Pilar Palma Luna

SEMANA: 4 al 8 de mayo

CONTACTO: pilopl_38@hotmail.com

OBJETIVO APRENDIZAJE:

OA :Representar, comparar y ordenar números del 0 al 20, de menor a mayor y/o viceversa.

Te acuerdas en la clase anterior, vimos los signos para comparar

COMPARACIÓN DE NÚMEROS

$$3 > 2$$

mayor que



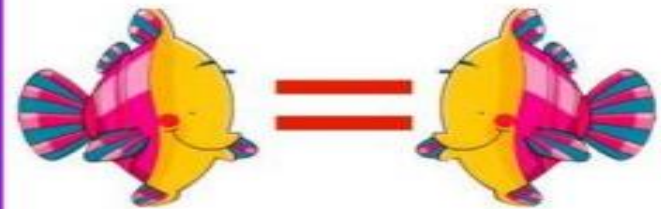
$$2 < 3$$

menor que



$$3 = 3$$

igual que



Observa el siguiente video sobre comparar cantidades


<https://www.animaker.com>

Hagamos un ejercicio y pide al adulto que te acompaña que te lea la instrucción

¿Cuenta las estrellas y los círculos que están en el recuadro y responde oralmente

¿Qué hay más estrellas o círculos?











Escríbelo en tu cuaderno .








Hagamos este otro ejercicio

¿Cuántos puntos hay en encima de cada número?

Lo dirás oralmente y luego lo escribes en tu cuaderno

									
1	2	3	4	5	6	7	8	9	10

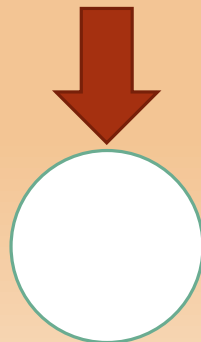

				
11	12	13	14	15

¡Excelente tu trabajo!

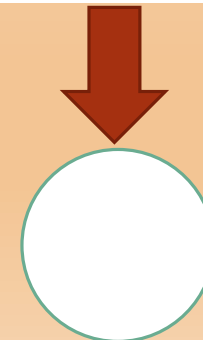
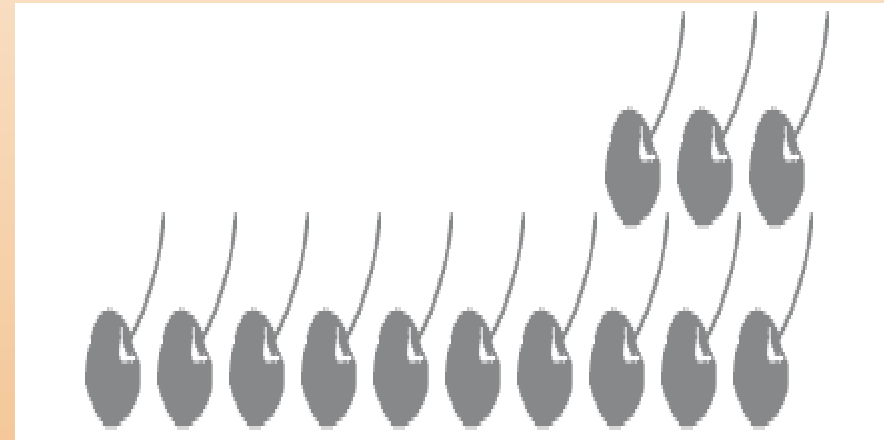
¡ Bien ! Recordando el trabajo de contar y conocer donde hay más ,comenzaremos a la realización de ejercicios.

Dile al adulto que te acompaña ,que lea la instrucción ,tú respondes y luego realizas en el cuaderno .

¿Cuántos gorros de cumpleaños hay ?



¿Cuántas guindas hay ?



¿Dónde hay más?

¡ Bien ! Recordando el trabajo de contar y conocer el orden de los números realizaremos el siguiente ejercicio.

Di oralmente la secuencia de números de cada fila y luego la escribes en tu cuaderno

5	6		8	9		11	12			15
---	---	--	---	---	--	----	----	--	--	----

3		5		7	8		10		12	
---	--	---	--	---	---	--	----	--	----	--

		4		6			9			
--	--	---	--	---	--	--	---	--	--	--



Vamos
muy
bien

Amiguitos , realizados los ejercicios recordando más , menos y cual es el orden, realizaremos los siguientes ejercicios , primero oral mente y luego en tu cuaderno

Cuenta los elementos y escribe el número que corresponda.



Hay 


Hay 



Amiguitos , realizados los ejercicios recordando más , menos y cual es el orden, realizaremos los siguientes ejercicios:

Cuenta los elementos según corresponda, dilo oralmente y luego escribe en tu cuaderno


Cuenta los elementos según corresponda, dilo oralmente y luego escribe en tu cuaderno




a.



b.



Amiguitos , realizados los ejercicios recordando cual es el orden, realizaremos el siguiente ejercicio:



8

12

16

Completa la secuencia de los números respetando el orden ,dilo oralmente y luego lo escribes en tu cuaderno

Tarea: Traspasa a tu cuaderno estas filas y completas de acuerdo al orden

10	11			14		16	
11		13	14			17	18
	15			18		20	
	14		16		18		20
9			12			15	
12				16	17		

Tarea: Traspasa a tu cuaderno estas filas y completas de acuerdo al orden

1			4		6		8	9	
11		13		15		17			20

	2	3		5					10
	12				16			19	

1		3				7		9	
	12		14						20

		3		5			8		10
11					16	17			

Tarea: Traspasa y realiza en tu cuaderno estos ejercicios.
Cuenta y escribe el número que corresponde .



¡Felicitaciones , has trabajado muy bien , la próxima clase continuamos!

