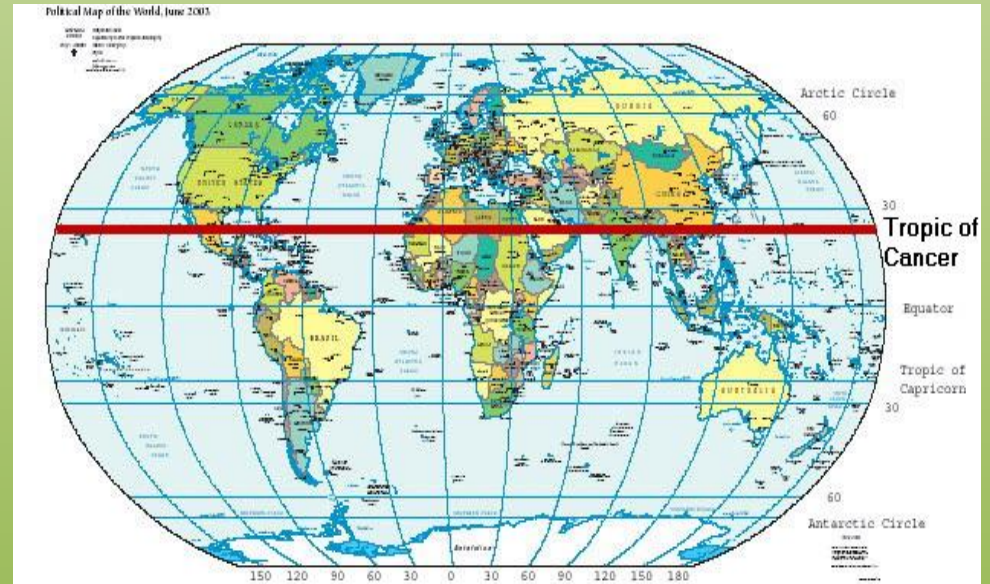



ACTIVIDADES DE HISTORIA Y GEOGRAFÍA
GUÍA DIGITAL N° 17
SEMANA 23



SEMANA 28 DE SEPTIEMBRE AL 2 DE
OCTUBRE
2° AÑO BÁSICO A Y B



Bienvenidos a una nueva semana de clases, en esta oportunidad retomaremos Geografía, localización de Chile en el Globo terráqueo, mapamundi, utilizando los puntos cardinales.

Profesora Verito y Profesora Francisca



GUÍA DIGITAL N° 17

OBJETIVOS Y CONTENIDOS CONCEPTUALES

Asignatura: Historia y Geografía

Curso: 2°A -2°B

Docente: Verónica Gracia Tapia. – M. Francisca Rojas.

Semana: 28 de septiembre al 2 de octubre

Contacto: veronica.gracia@colegio-isabelriquelme.cl

francisca17r@hotmail.com

Horario de atención:

Lunes a Viernes de 16:00 a 17:00 horas. (Prof. Verónica.)

Lunes a Viernes de 10:00 a 11:00 y 15:00 a 16:00 horas (Prof. Francisca)

Objetivo de la clase: Localizar geográficamente a Chile en el globo terráqueo y planisferio o mapamundi.

Actividad: Ubicar a Chile en el globo terráqueo y planisferio, utilizando los puntos cardinales, distinguen países de América del Sur en un mapa.



1.-OBJETIVO DE APRENDIZAJE Y CONTENIDOS CONCEPTUALES

| Objetivo de aprendizaje | Contenido |
|--|--|
| OA7 Ubicar Chile, Santiago, la propia región y su capital en el globo terráqueo o en mapas, y describir la ubicación relativa de países limítrofes y de otros países de América del Sur, utilizando los puntos cardinales | Globo terráqueo Mapamundi Puntos Cardinales |
| Objetivo de la Clase | Habilidades |
| Localizar geográficamente a Chile en el globo terráqueo y mapamundi. | Leer y comunicar información geográfica mediante distintas herramientas (planos, mapas, globos terráqueos y diagramas). |

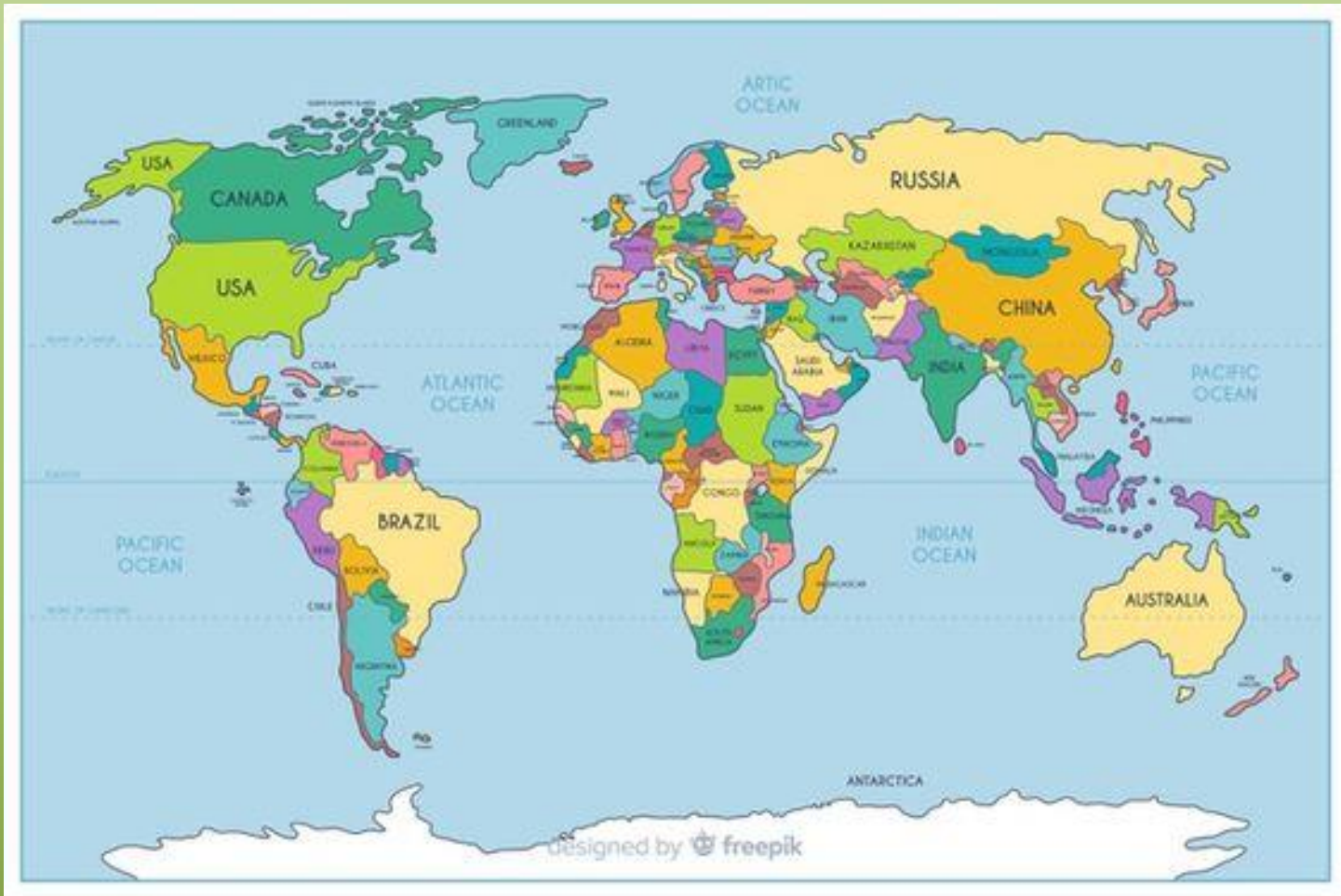
2.- GUÍA



El diseño a escala en esfera que representa al planeta Tierra se le denomina Globo Terráqueo.

Algunos globos terráqueos contienen relieves para indicar montañas y otras formas de la superficie, así como distintos colores para indicar diferentes paisajes.

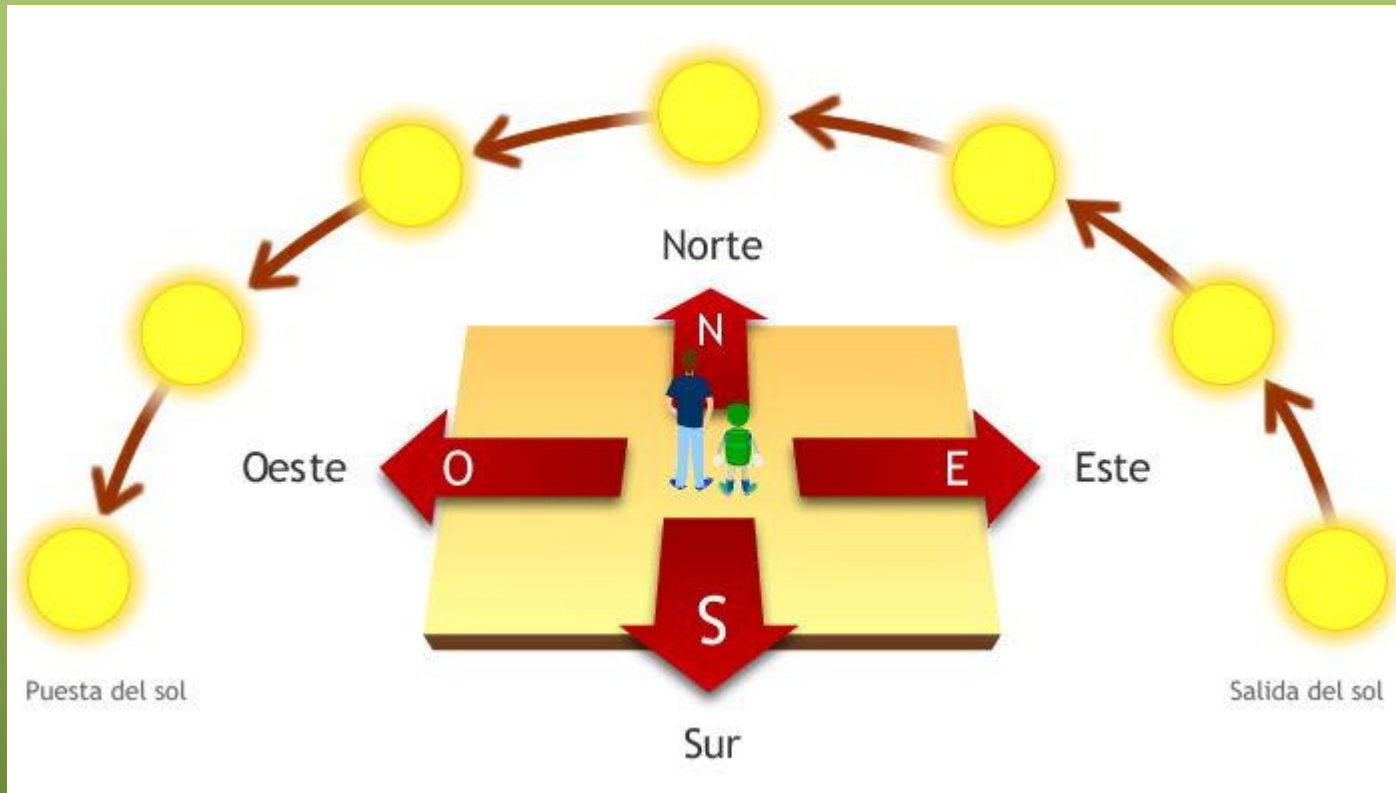
Por otro lado, las partes del globo terráqueo mas características son un conjunto de líneas imaginarias que cumplen diferentes funciones.



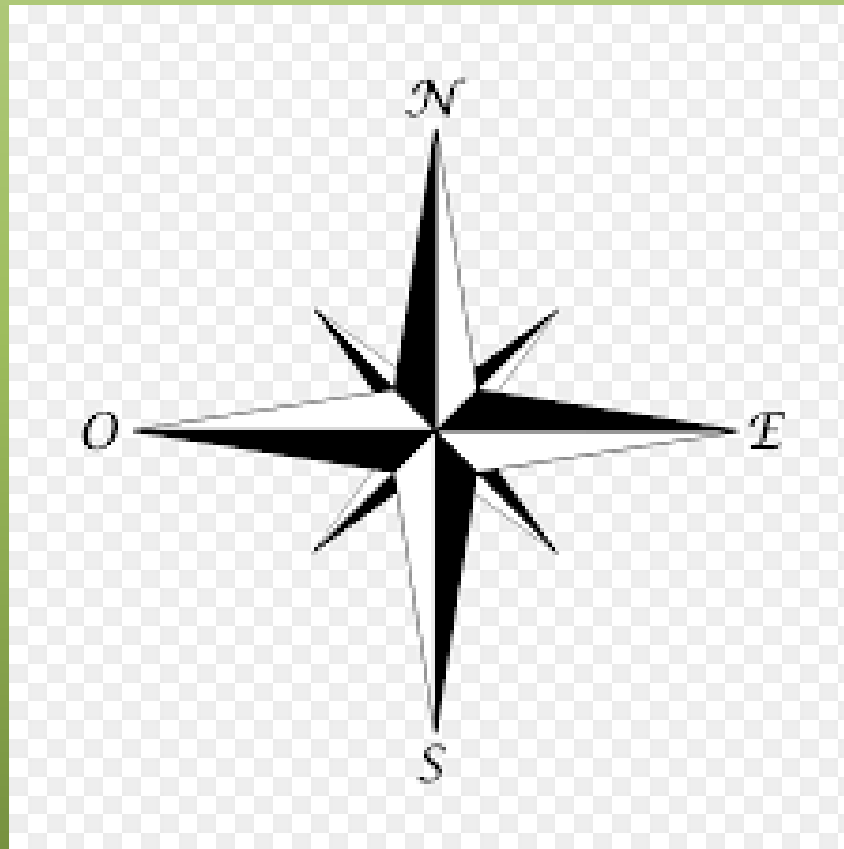
Planisferio es una representación de la superficie terrestre en forma de mapa. De allí que también sea conocido como mapamundi o mapa mundi.

Puntos Cardinales

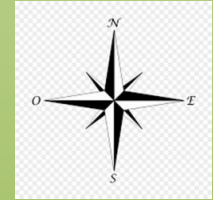
Puntos cardinales se refiere a los cuatro sentidos o direcciones que permiten a una persona orientarse en el espacio. Estos sentidos o direcciones son Norte, Sur, Este y Oeste. El Este o también llamado Oriente es por donde sale el sol. En el sentido contrario al Este se encuentra el Oeste u Occidente, que es por donde se oculta el sol.



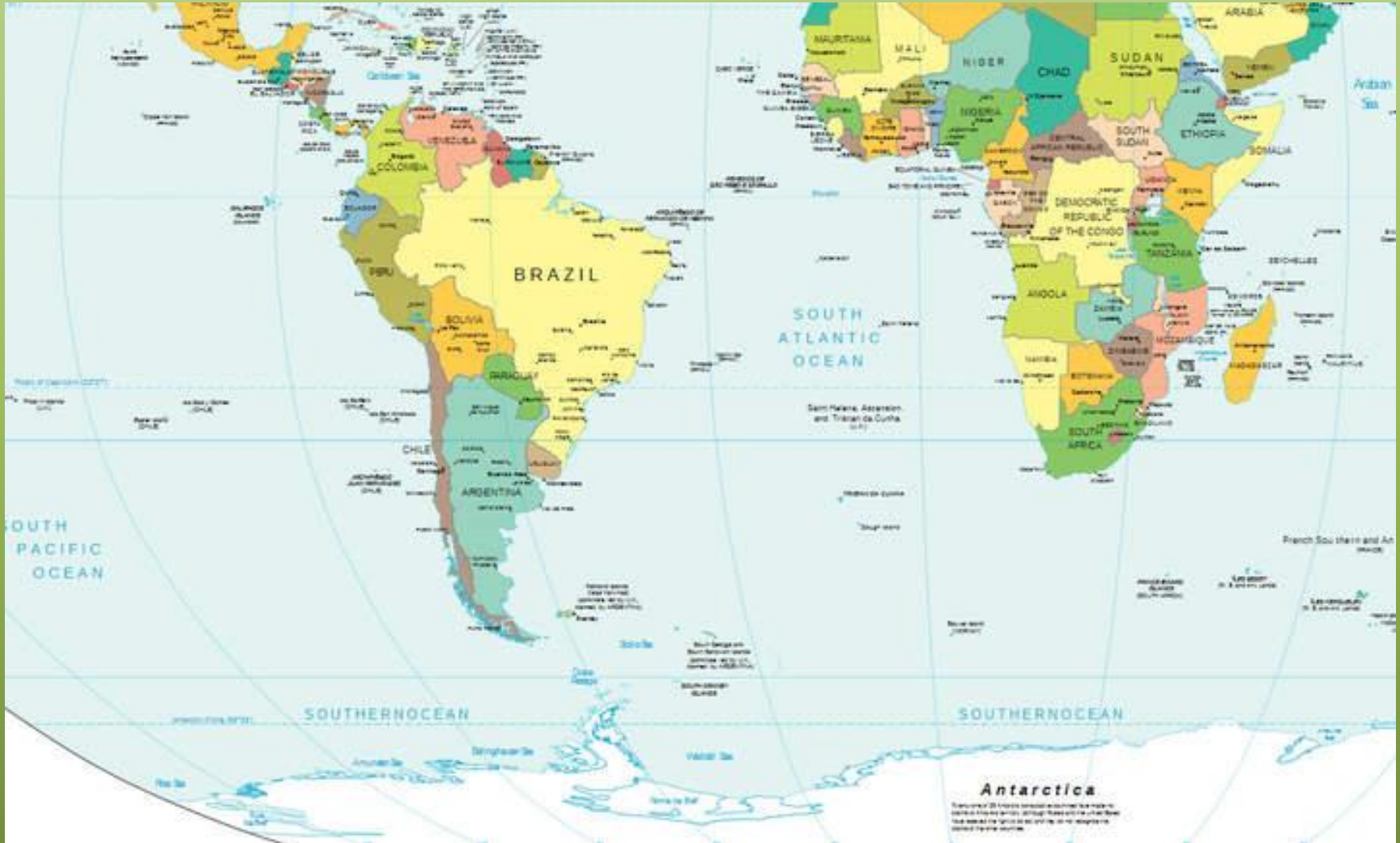
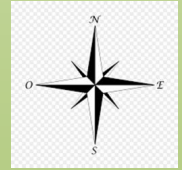
Rosa de los Vientos: Una rosa de los vientos es un símbolo en forma de círculo que tiene marcado alrededor los rumbos en que se divide la circunferencia del horizonte, y que serían este, oeste, norte y sur Sobre el todo se sitúa la flor de lis con la que se suele representar el Norte. Ese símbolo se documenta a partir del siglo XV.



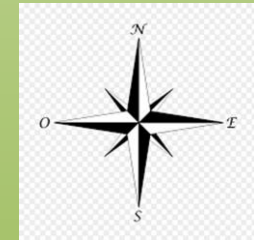
CHILE EN EL GLOBO TERRÁQUEO



CHILE EN EL PLANISFERIO



CHILE EN AMÉRICA DEL SUR



3.- TAREA

Pinta Chile en El Planisferio, indica en que Continente se encuentra y cuál es el Océano con el cual limita.





Observa el mapa y responde la alternativa correcta:

Chile se encuentra en:

- a) Europa**
- b) Asia**
- c) América**

Chile limita al oeste con:

- a) La cordillera de la Costa**
- b) El Océano Pacífico**
- c) El Océano Atlántico**

Los países que limítrofes, al norte de Chile son:

- a) Venezuela y Uruguay**
- b) Argentina y Perú**
- c) Perú y Bolivia**

d) Nombra los países que conforman América del Sur.

PAUSA ACTIVA

Posturas de yoga para niños



El camello



El gato



Mariposa



El árbol



Serpiente



El perro

4.- SOLUCIONARIO

Observa el mapa y responde la alternativa correcta:

Chile se encuentra en:

Europa

Asia

América

Chile limita al oeste con:

La cordillera de la Costa

El Océano Pacífico

El Océano Atlántico

Los países que limítrofes, al norte de Chile son:

Venezuela y Uruguay

Argentina y Perú

Perú y Bolivia

.



Nombra los países que conforman América del Sur:

Guyana

Surinam

Guayana Francesa

Venezuela

Colombia

Ecuador

Perú

Bolivia

Brasil

Paraguay

Uruguay

Argentina

Chile

5.-AUTOEVALUACIÓN

| Indicador | OL | ML |
|--|-----------|-----------|
| Ubico Chile en el planisferio, en el globo terráqueo y en el mapa de América del Sur. | | |
| Identifico los puntos cardinales y los utilizo para localizar lugares. | | |
| Distinguen países de América del Sur en el mapa. | | |

6.- Ticket de salida

No olvides enviar una foto del ticket de salida al correo de tu profesora

Indicadores: Ubican a Chile en el globo terráqueo y planisferio

Utilizan puntos cardinales para ubicarse en un mapa y ubicar límites de Chile-

| | |
|--|---|
| TICKET DE SALIDA NOMBRE: _____ | Una pregunta sobre la clase de hoy |
| | Das cosas que aprendí |
| | Tres cosas sobre las que puedo trabajar |

¡¡¡Esta semana será de mucho aprendizaje!!!

Va a ser muy entretenido y beneficioso para ustedes, cuídense y reciban un gran abrazo, mucho cariño y el recuerdo constante de sus profesoras que les extrañan muchísimo...

Profesora Verito y Profesora Francisca.

