

# Queridos alumnos (as)

- ✗ Esperamos de todo corazón que se encuentren bien en sus hogares juntos a sus familias, estamos viviendo momentos distintos a los que acostumbramos por lo que es importante que mantengamos nuestros hábitos de estudio y así darle continuidad al proceso de aprendizaje.
- ✗ Cuidémonos entre todos, para que pronto nos volvamos a ver.



Un abrazo virtual

Quédate en casa





Colegio Isabel Riquelme  
U.T.P.

## Guía Digital N° 9

<b>Asignatura</b>	Taller de Geometría
<b>Curso</b>	2 básico A y B
<b>Docente</b>	Catherin Parra O.
<b>Semana</b>	08 al 12 de junio
<b>Días de consulta</b>	lun. a vi. de 10 <sup>º</sup> a 11 <sup>º</sup> y de 15 <sup>º</sup> a 16 <sup>º</sup>
<b>Contacto</b>	<a href="mailto:catherin.parra@colegio-isabelriquelme.cl">catherin.parra@colegio-isabelriquelme.cl</a>

# Sigo mi ruta de aprendizaje.

Leeremos el objetivo a trabajar esta clase, recordaremos actividades realizadas en actividades anteriores, así nos guiaremos y realizaremos un buen trabajo.

Leer guía con los contenidos a tratar esta semana, posterior a eso realizar la tarea designada en la asignatura, terminado eso realizar una verificación de las respuestas, recuerda que la honestidad es un valor invaluable.

Para terminar, evaluaremos nuestros aprendizajes y los compartiremos con algún adulto responsable en tu hogar, no olvides enviar evidencia a tus profesores para una pronta retroalimentación.



# 1. OBJETIVO DE APRENDIZAJE

OBJETIVO DE APRENDIZAJE	CONTENIDOS
OA_15 describir, comparar y construir figuras 2D (triángulos, cuadrados, rectángulos y círculos) con material concreto	Geometría, figuras 2D y 3D
OBJETIVO DE LA CLASE	HABILIDADES
Retroalimentar y reforzar contenidos	Resolver problemas: Emplear diversas estrategias para resolver problemas: a través de ensayo y error; aplicando conocimientos adquiridos.





## 2. GUIA

No olvides antes de iniciar a trabajar



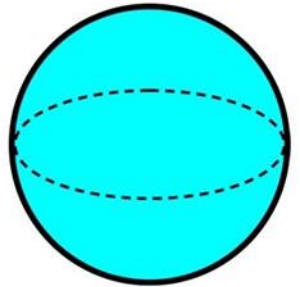
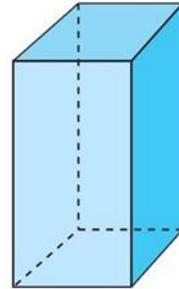
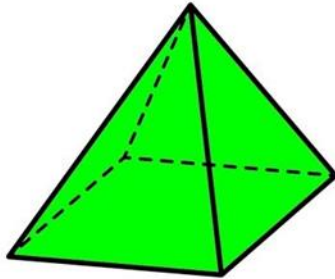

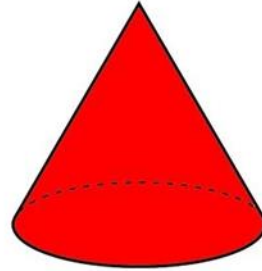
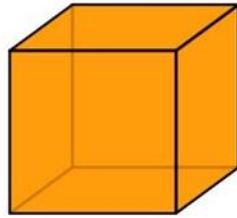
- a) Busca un lugar tranquilo e iluminado para trabajar
- b) 1° Busca tu estuche, cuaderno, tú libro y cuadernillo del estudiante.
- c) 2° Recuerda mantener el orden y la limpieza en tu trabajo.
- d) 3° Tu puedes, manos a la obra.
- e) Y por último, piensa positivo 😊





Recordemos...


Cuerpos  
geométricos





Recordemos...

Figuras  
geométricas





## Recordemos...

Tipos

De

líneas



**curva**



**recta**




**mixta**





### 3. Tarea

Realiza los siguientes ejercicios en tu cuaderno, no olvides guiarte por el patrón de orden para no alterar tu resultado.



**No olvides escribir la fecha y objetivo**

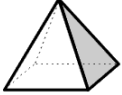
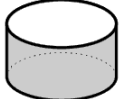
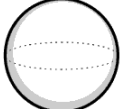
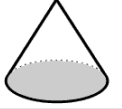
ROJO VERDE AMARILLO AZUL

ESCRIBÍ CÓMO SE LLAMAN ESTAS FIGURAS GEOMÉTRICAS.

PIRÁMIDE CUBO ESFERA PRISMA



Completa el siguiente cuadro en tu cuaderno

	NOMBRE	NÚMERO DE CARAS	NÚMERO DE ARISTAS	NÚMERO DE VÉRTICES
a) 	_____ ..... .....			
b) 	..... ..... .....			
c) 	_____ ..... .....			
d) 	..... ..... .....			
e) 	..... ..... .....			

No olvides copiar de forma ordenada en tu cuaderno







## 4. Solucionario












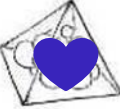
Queridos alumnos, deseamos que se encuentren bien en sus hogares, confío en que realizaste estas actividades de manera honesta y sin visualizar las respuestas con anterioridad ya que eso no sería correcto para ti, como les digo siempre los profesores ya estudiamos y esto ya lo sabemos, pero ahora es tu oportunidad de aprender y ser aún mejor en tus aprendizajes, ya que tú puedes y eres capaz de esto y de mucho más.

- x Si tienes todo bien te felicito por tu gran trabajo
- x Si te equivocaste, sabrás donde está tu error y lo podrás corregir
- x Recuerda que la honestidad es un valor invaluable y que aprender de los errores te hará un grande en la vida.




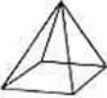






  
 ROJO VERDE AMARILLO AZUL

● **ESCRIBÍ CÓMO SE LLAMAN ESTAS FIGURAS GEOMÉTRICAS.**

PIRÁMIDE CUBO ESFERA PRISMA





  
 Prisma pirámide cubo esfera

- a) Pirámide: 5 caras, 8 aristas, 5 vértices. b) Cilindro: 3 caras, 2 aristas, 0 vértices. c) Esfera: 1 cara, 0 aristas, 0 vértices. d) Cubo: 6 caras, 12 aristas, 8 vértices. e) Cono: 2 caras, 1 arista, 1 vértice.



## Ahora mi autoevaluación 😊

RUTINA DE PENSAMIENTO: LA ESCALERA DE LA METACOGNICIÓN




4 ¿En qué otras ocasiones puedo usarlo?

3 ¿Para qué me ha servido?

2 ¿Cómo lo he aprendido?

1 ¿Qué he aprendido?



pngtree.com

Recuerda que puedes consultar ante cualquier duda...  
¡nos vemos la próxima clase! 😊

