



ACTIVIDADES DE HISTORIA Y GEOGRAFÍA

2° AÑO BÁSICO

Hola niños, ¿cómo están? Espero que se estén cuidando en casita y ayudando a la mamá, papá, abuelita, tíos en las labores de la casa, también deseo que pronto pase el tiempo para poder reencontrarnos y seguir con nuestras clases en el colegio, los extrañamos mucho...

Esta semana volveremos a conocer nuevos tipos de paisajes de nuestro país, esta vez nos corresponde conocer las características de la zona central.



GUÍA DIGITAL N° 7

Asignatura : Historia y Geografía

Curso : Segundo

Docente : Francisca Rojas Arévalo – Verónica Gracia Tapia.


Semana : 25/29 de mayo

Contacto : veronica.gracia@colegio-isabelriquelme.cl /

francisca17r@hotmail.com

Horario de atención:

Lunes a Viernes de 16:00 a 17:00 horas.



1.-OBJETIVO DE APRENDIZAJE Y CONTENIDOS CONCEPTUALES

Objetivo de aprendizaje	Contenido
OA8 Clasificar y caracterizar algunos paisajes de Chile según su ubicación en la zona norte, centro y sur del país, observando imágenes, utilizando diversas fuentes y un vocabulario geográfico adecuado (océano, río, cordillera de los Andes y de la Costa, desierto, valle, costa, volcán, archipiélago, isla, fiordo, lago, ciudad y pueblo, entre otros).	Paisaje. Elementos del paisaje naturales y culturales Paisajes de la zona central de Chile.
Objetivo de la clase	Habilidades
Identificar el tipo de paisajes existentes en Chile. Zona Central.	Identificar Relacionar Caracterizar Relacionar Analizar

2.- GUÍA

Vamos a recordar los elementos del paisaje.

Elementos naturales:

son parte de la naturaleza.

- **Relieve:** son formas que tiene la superficie de la Tierra.
- **Clima:** son las condiciones atmosféricas de un lugar (temperatura, humedad, cantidad de lluvia).
- **Vegetación:** son las especies vegetales de un lugar.


Elementos culturales:

son creados por el ser humano.

- Se refiere a las **construcciones** realizadas por las personas como puentes, caminos, edificios, casas, entre otros.

Zona Central de Chile

Aquí encontramos una mayor cantidad de ríos, y el verde en el paisaje predomina. Esta región consta de tres zonas geográficas: Cordillera de la costa, depresión intermedia y cordillera de los andes. ... En la Zona Central de Chile, la cordillera de los Andes es muy alta y algunas de sus cumbres son volcanes.




Paisajes de la Zona Central



Se caracteriza por tener un clima predominantemente mediterráneo y de tipo templado. La zona central está enclavada en una planicie integrada por pequeños valles situada entre la Cordillera de los Andes y la Cordillera de la Costa.

Esta parte de Chile posee un clima mediterráneo, el cual se da en pocas partes del mundo. Este clima ha obligado a la flora adaptarse a veranos muy secos en comparación con inviernos lluviosos.



Zona central o Zona centro de Chile es una de las cinco regiones naturales en que la Corfo dividió Chile en 1950. Sus límites son el río Aconcagua por el norte y el río Biobío por el sur. Limita al norte con el Norte Chico, al este con Argentina y al sur con la Zona sur de Chile.

La fauna nativa de esta zona destaca por la abundancia de insectos, anfibios, mamíferos y aves. Algunas especies son: mariposas, coleópteros, el degú, el lauchón, la lauchita de los espinos, el coipo, la comadreja, el culpeo, la chilla, el gato montes, el quique, el puma y diversos roedores. Zorro culpeo.



Zona central

Denominamos Zona Central a la sección del país que se extiende desde el río Aconcagua hasta el río Biobío. Comprende parte de la Región de Valparaíso, la Región Metropolitana, la de O'Higgins, la del Maule y la del Biobío.



Fauna



Paisajes de la zona central.



- *Clima*



- *Flora:*



FLORA ZONA CENTRAL



Arrayán



Belloto



Chagual



Espino



En esta zona se presentan climas templados cálidos que se caracterizan por sus temperaturas moderadas y precipitaciones que se concentran en los inviernos.



3.- TAREA

❖ **Desarrollar actividades de las páginas 34 y 35 del Libro de Asignatura.**

❖ **Desarrollar Cuestionario en cuaderno de asignatura:**

- 1.- ¿ Que regiones componen la zona central de Chile?
- 2.- ¿Cuál es el clima predominante de la zona central de Chile?
- 3.- Nombra tres especies de la flora y de la fauna de la zona central.
- 4.- ¿Cuáles son los límites de la zona central?
- 5.- Nuestra ciudad Rancagua, ¿a qué zona pertenece?

“El éxito es la suma de pequeños esfuerzos realizados día a día.”

PÁGINA 34 y 35 del LIBRO

(Contesta las preguntas en tu cuaderno de Historia)

Lección 2 ¿Qué paisajes existen en Chile?

¿Por qué vive más gente en los paisajes de la Zona Central?

En esta zona las temperaturas son moderadas, no hace ni mucho frío ni mucho calor, lloviendo principalmente en invierno. Su clima es templado.

Recurso 1 Los paisajes de la Zona Central.

Puerto de Valparaíso.

 Los **puertos** en las ciudades de la costa permiten el comercio con países de otros continentes.

Campeños de la Zona Central.

 La **agricultura** se ve favorecida por el clima templado y la fertilidad de sus valles.

Santa Cruz en el valle de Colchagua.


1 ¿Por qué la **vegetación** es más abundante en esta zona que en la Zona Norte?

34

Unidad 1

Cajón del Maipo en San José de Maipo.

 La **cordillera de los Andes** tiene altas cumbres y de ella nacen ríos que desembocan en el mar (océano Pacífico). A medida que se avanza hacia el Sur la vegetación aumenta.

La Moneda, Región Metropolitana.

 Existen **grandes ciudades** donde vive gran parte de la población de Chile. Por ejemplo: Santiago, Valparaíso y Concepción.

Foto panorámica de la ciudad de Santiago, capital de Chile.


2 ¿Qué hace de esta zona la más poblada del país?

3 Explica el paisaje de la Zona Central usando las palabras aprendidas hasta ahora.

35

3.- SOLUCIONARIO

Página 34

1.- Porque hay mayor disponibilidad de agua (precipitaciones, presencia de ríos), así como también las características del clima.

Página 35

2.- Las condiciones del clima, las actividades y trabajos que se pueden desempeñar allí y la presencia de la capital del país.

3.- Hay presencia de valle, cordillera, ríos, agricultura, etc.

1.- ¿ Que regiones componen la zona central de Chile?

R: Esta zona se subdivide en zona centro a las regiones de Valparaíso, Metropolitana y de O'Higgins y zona centro-sur a las regiones del Maule, de Ñuble y del Biobío.

2.-¿Cuál es el clima predominante de la zona central de Chile?

R: Esta parte de Chile posee un clima mediterráneo, el cual se da en pocas partes del mundo. Se caracteriza por tener un clima predominantemente mediterráneo y de tipo templado.

3.- Nombra tres especies de la flora y de la fauna de la zona central.

R: Flora: Quillay, el litre, el boldo **Fauna:** la comadreja, la chilla, el gato montes

4.-¿Cuáles son los límites de la zona central?

R: Sus límites son el río Aconcagua por el norte y el río Biobío por el sur. Limita al norte con el Norte Chico, al este con Argentina y al sur con la Zona sur de Chile..

5.- Nuestra ciudad Rancagua, ¿a qué zona pertenece?

R: Nuestra ciudad pertenece a la Zona Centro

¡Hasta la próxima semana, si tienes dudas, envíalas a mi correo de contacto, estaré esperando para apoyarte y enseñarte...!

