

**ACTIVIDADES DE HISTORIA Y GEOGRAFÍA**  
**GUÍA DIGITAL N° 17**



**SEMANA 28 DE SEPTIEMBRE AL 2 DE**  
**OCTUBRE**  
**3° AÑO BÁSICO**



***Bienvenidos a una nueva semana de clases, esta semana retomaremos Geografía, volveremos a recordar los hemisferios, Línea del Ecuador o paralelo 0°, Trópicos, Polos, Continentes, Océanos y a ubicarlos en el mapa o planisferio...ustedes ya conocen estos contenidos vamos a trabajar con entusiasmo y dedicación, ustedes mis niños pueden hacer y lograr grandes cosas...***

***Profesora Verito.***



## GUÍA DIGITAL N° 17

### OBJETIVOS Y CONTENIDOS CONCEPTUALES

Asignatura: Historia y Geografía

Curso: 3°A

Docente: Verónica Gracia

Semana: 28 de septiembre al 2 de octubre

Contacto: [veronica.gracia@colegio-isabelriquelme.cl](mailto:veronica.gracia@colegio-isabelriquelme.cl)

Horario de atención:

Lunes a Viernes de 16:00 a 17:00 horas.(Prof. Verónica)

Objetivo de la clase: Ubicar geográficamente, en el globo terráqueo y planisferio, los hemisferios, línea del Ecuador, Trópicos, Polos.

Actividad: Leer y analizar Guía de trabajo, realizar tarea y retroalimentar contenidos con solucionario.



# **1.-OBJETIVO DE APRENDIZAJE Y CONTENIDOS CONCEPTUALES**

<b>Objetivo de aprendizaje</b>	<b>Contenido</b>
<b>OA7 Distinguir hemisferios, círculo del Ecuador, trópicos, polos, continentes y océanos del planeta en mapas y globos terráqueos.</b>	<b>Líneas de Referencia del Planeta Tierra</b>
<b>Objetivo de la Clase</b>	<b>Habilidades</b>
<b>Ubicar geográficamente, en el globo terráqueo y planisferio, los hemisferios, línea del Ecuador, Trópicos, Polos.</b>	<b>Identificar Ubicar Aplicar</b>

# 2.- GUÍA

## Líneas y lugares de referencia del planeta Tierra

Nuestro planeta es muy grande y extenso. Por eso hemos creados diversas **estrategias** para ubicarnos en él. La geografía nos entrega herramientas, como la elaboración de mapas y el uso de los puntos cardinales, para este fin.

Además de esto, también contamos con otras referencias o líneas imaginarias que sirven para ubicarnos de mejor manera. **Las líneas de referencia son líneas imaginarias que se dibujan en los mapas.** Si vamos al lugar físico, no vamos a encontrar una línea en el suelo. Las usamos para tener referencias de lugares y así poder describir más fácilmente dónde se encuentran los objetos, por ejemplo, islas, países, océanos, barcos, etc.

**Estrategia:** medidas o acciones que se toman para lograr una meta o un fin.

**Los hemisferios:** podemos dividir la Tierra en dos mitades: norte y sur. La línea imaginaria que las separa está al centro de la Tierra y se llama **círculo del ecuador**.

Todos los territorios que están al norte de esa línea imaginaria, pertenecen al hemisferio norte.

Todos los territorios que están al sur de esta línea imaginaria, forman parte del hemisferio sur.





**Los trópicos:** son líneas imaginarias que están dibujadas a la misma distancia, al norte y al sur del círculo del Ecuador.

La línea que está en el hemisferio norte se llama, **trópico de Cáncer**.

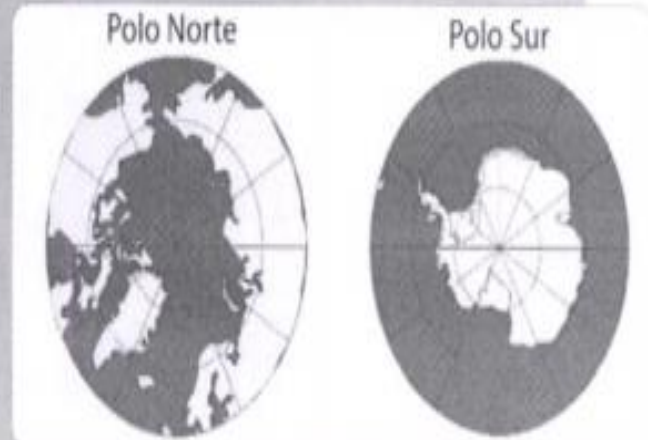
La línea que está en el hemisferio sur se llama **trópico de Capricornio**.

**Los polos:** son los puntos de la superficie terrestre que están en el extremo norte y en el extremo sur del planeta.

Son zonas muy frías.

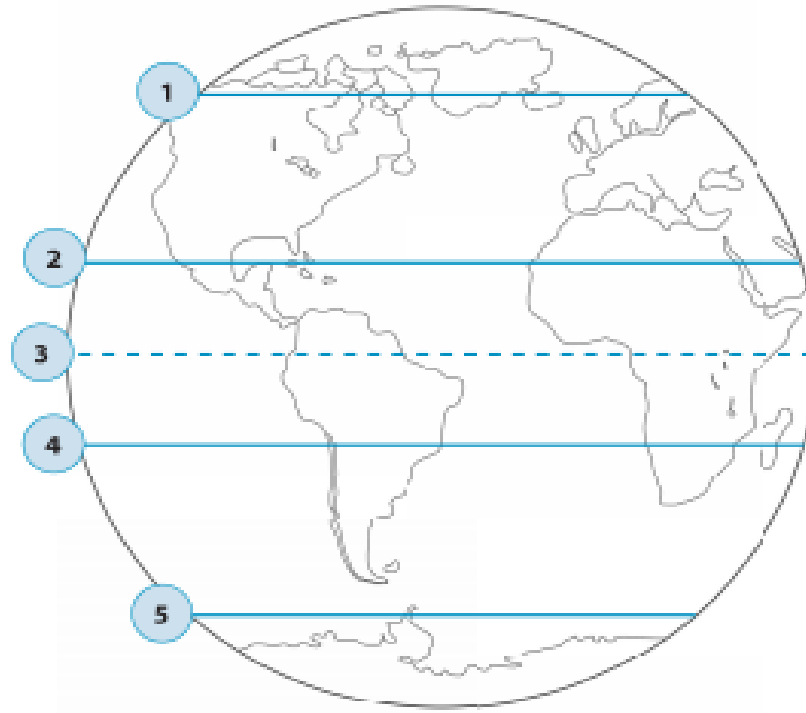
En el hemisferio norte está el círculo polar Ártico.

En hemisferio sur el círculo polar Antártico.




# 3.- TAREA.

Ubica las líneas de referencia del planeta Tierra (círculo polar ártico, círculo polar antártico, línea del ecuador, trópico de Cáncer y trópico de Capricornio).



1. \_\_\_\_\_
2. \_\_\_\_\_
3. \_\_\_\_\_
4. \_\_\_\_\_
5. \_\_\_\_\_

Describe la posición de las líneas de referencia en el mapa utilizando puntos cardinales.



**Ejemplo:**

Línea del ecuador: La línea del ecuador está al sur del trópico de Cáncer y al norte del trópico de Capricornio.

• Círculo polar Ártico: \_\_\_\_\_

\_\_\_\_\_

• Trópico de Cáncer: \_\_\_\_\_

\_\_\_\_\_

• Trópico de Capricornio: \_\_\_\_\_


\_\_\_\_\_

• Círculo polar Antártico: \_\_\_\_\_

\_\_\_\_\_



Describe la posición de las líneas de referencia en el mapa utilizando puntos cardinales.



Trópico de Cáncer

Entre el trópico de Cáncer y el trópico de Capricornio.

Círculo del ecuador

Al sur del trópico de Capricornio.

Trópico de Capricornio

Al norte del trópico de Cáncer.

Círculo polar Ártico

Al sur del círculo polar Ártico y al norte del ecuador.

Círculo polar Antártico

Al sur del ecuador y al norte del círculo polar Antártico

**Respuesta personal, el alumno(a) debe argumentar su respuesta.**

¿Por qué, crees tú, que fueron creadas las líneas de referencia del planeta Tierra? Justifica.

Yo creo que las líneas de referencia fueron creadas porque .....

.....

.....

.....

.....

# PAUSA ACTIVA

## CUELLO (zona cervical)



- 1.- Inclinar cabeza hacia adelante, intentando tocar el pecho con el mentón.
- 2.- Inclinar la cabeza lateralmente, hacia ambos lados.

## HOMBROS Y BRAZOS



- HOMBROS:** Elevar y bajarlos al máximo. Hacer rotaciones en ambos sentidos.
- BRAZOS:** Con las manos entrecruzadas hacia afuera estirar los brazos a la altura de los hombros.

## MUÑECAS Y DEDO



- 1.- Juntar las palmas y presionar hacia abajo manteniendo las palmas unidas.
- 2.- Extender los dedos de las manos sobre una superficie lo máximo posible, manteniendo unos segundos esa posición, luego realizar una flexión de los mismos.

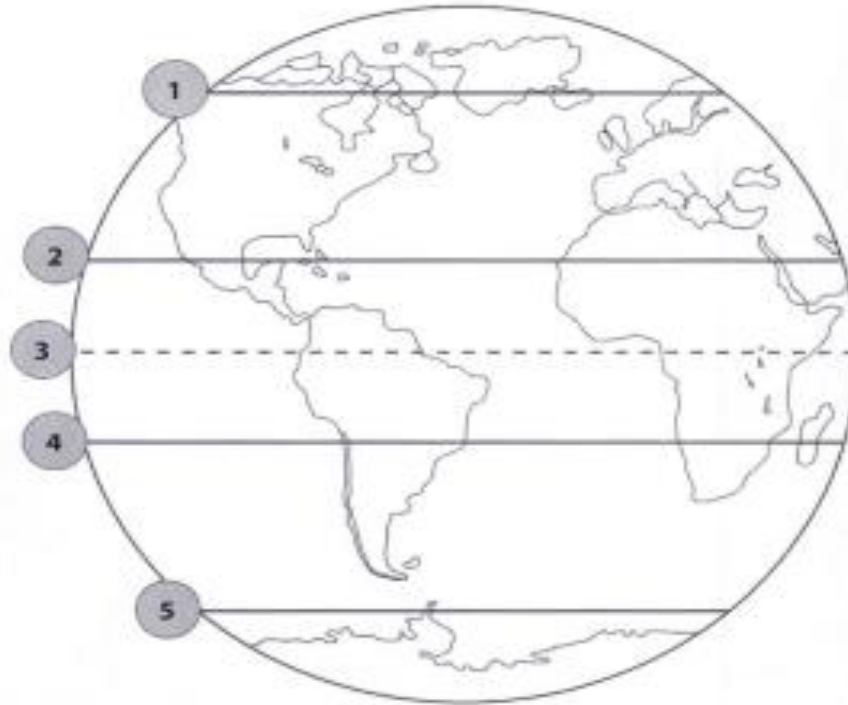
## EJERCICIOS VISUALES



- 1.- Coger un lápiz con la mano y sin mover la cabeza acercarlo hacia nosotros lentamente y luego distanciarlo, fijando la mirada en el lápiz.
- 2.- Cerrar los ojos fuertemente y mantenerlos cerrados durante unos segundos.

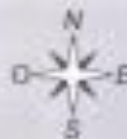
# 4.-SOLUCIONARIO

Ubica las líneas de referencia del planeta Tierra (círculo polar ártico, círculo polar antártico, línea del ecuador, trópico de Cáncer y trópico de Capricornio).



1. Círculo polar Ártico
2. Trópico de Cáncer
3. Línea del ecuador
4. Trópico de Capricornio
5. Círculo polar Antártico

Describe la posición de las líneas de referencia en el mapa utilizando puntos cardinales.



**Ejemplo:**

Línea del ecuador: *La línea del ecuador está al sur del trópico de Cáncer y al norte del trópico de Capricornio*

- Círculo polar Ártico: **El círculo polar Ártico está al norte del trópico de Cáncer. En el hemisferio norte.**
- Trópico de Cáncer: **El trópico de Cáncer está al sur del círculo polar Ártico y al norte del ecuador. En el hemisferio norte.**
- Trópico de Capricornio: **El trópico de Capricornio está al sur del ecuador y al norte del círculo polar Antártico. En el hemisferio sur.**
- Círculo polar Antártico: **El círculo polar Antártico se ubica al sur del trópico de Capricornio. En el hemisferio sur.**

Describe la posición de las líneas de referencia en el mapa utilizando puntos cardinales.



Trópico de Cáncer

Círculo del ecuador

Trópico de Capricornio

Círculo polar Ártico

Círculo polar Antártico

Entre el trópico de Cáncer y el trópico de Capricornio.

Al sur del trópico de Capricornio.

Al norte del trópico de Cáncer.

Al sur del círculo polar Ártico y al norte del ecuador.

Al sur del ecuador y al norte del círculo polar Antártico

# 5.-AUTOEVALUACIÓN

Indicador	Logrado	Por lograr
<b>Identifico la Línea del Ecuador y/o el Meridiano de Greenwich a partir de un esquema, dibujo o globo terráqueo.</b>		
<b>Reconocen en qué hemisferios se encuentra Chile o América, a partir de un mapa</b>		
<b>Dibuja la línea del ecuador en una representación del globo terráqueo</b>		

# 6.- TICKET DE SALIDA

Reconocen en qué hemisferios se encuentra Chile o América, a partir de un mapa


Identifican líneas de referencia de la Tierra.

**★ TICKET DE SALIDA ★**

Nombre del alumno: \_\_\_\_\_

Determina si cada una de las siguientes frases sobre la ubicación de las líneas de referencia de la Tierra es verdadera (V) o falsa (F).

1. \_\_\_\_\_ Los Polos están al centro de la Tierra.
2. \_\_\_\_\_ El trópico de Cáncer está en el hemisferio norte.
3. \_\_\_\_\_ Los hemisferios dividen a la Tierra en Este y Oeste.
4. \_\_\_\_\_ El círculo del ecuador es la línea que separa a la Tierra en dos hemisferios.
5. \_\_\_\_\_ El trópico de Cáncer está al Norte del Polo Sur.
6. \_\_\_\_\_ El círculo del ecuador está al Sur del trópico de Cáncer.





*Niños espero que hayan puesto al día sus guías se encuentren con mucho ánimo para comenzar una nueva etapa de su aprendizaje, con más fuerza y motivación para aprender muchas cosas nuevas y entretenidas, un abrazo...*

*Profesora Verito.*

