



GUÍA DIGITAL N°3

TAREA

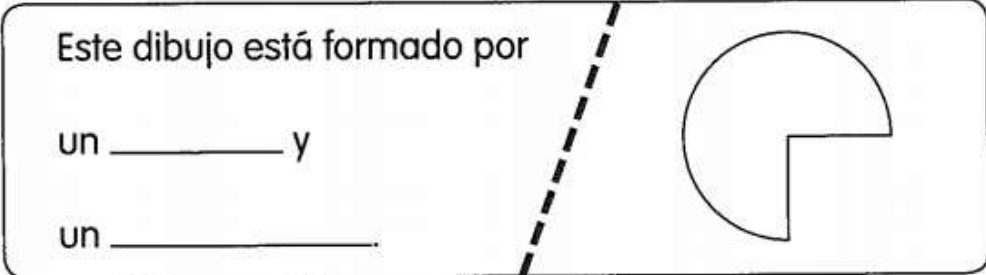
SEMANA 27 – 30 DE ABRIL


Consultas contacto: verograta@hotmail.com


“FIGURAS COMPUESTAS”

Cada dibujo está formado por dos figuras distintas. Nómbralas

(a)  Este dibujo está formado por
un _____ y
un _____.

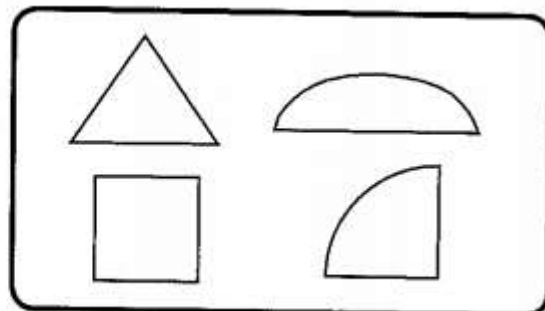
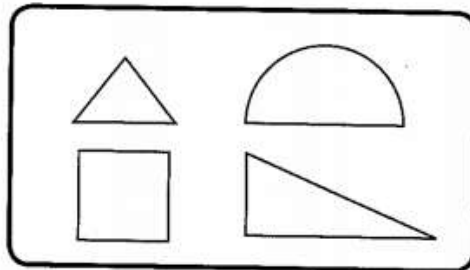
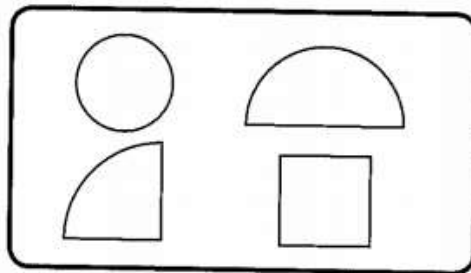
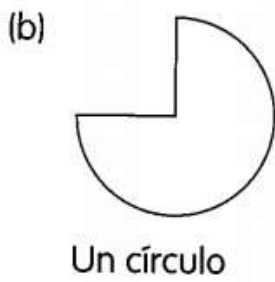

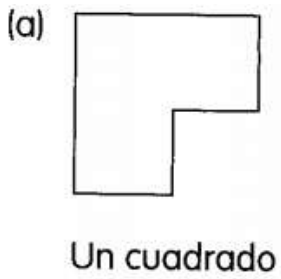
(b) Este dibujo está formado por
un _____ y
un _____ 

(c)  Este dibujo está formado por
un _____ y
un _____.

(d) Este dibujo está formado por
un _____ y 



1. A cada figura le falta una parte. Pinta el pedazo que la completa.





Solucionario

Hoja 1.-

Figuras formadas por:

- a) Triángulo y rectángulo.
- b) Círculo y un triángulo.
- c) Círculo y cuadrado.
- d) Círculo y rectángulo

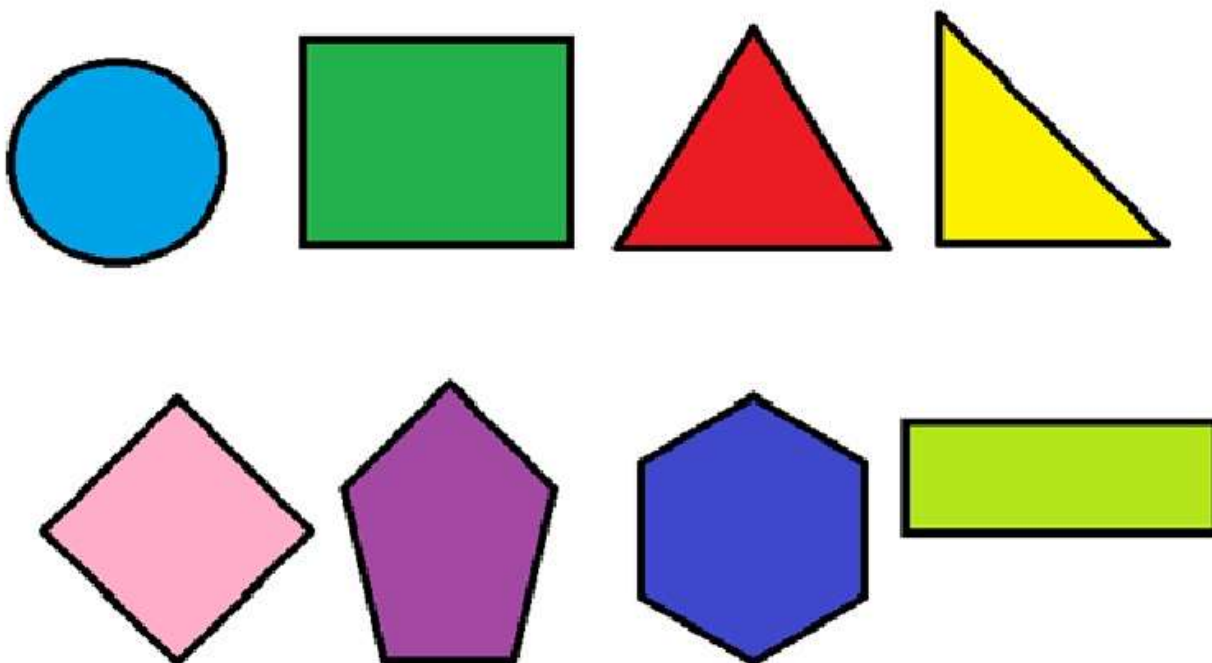
Hoja 2.-

Pintar:

- a) Cuadrado
- b) Un cuarto de círculo
- c) Triángulo
- d) Semicírculo



2.- Se entrega al alumno figuras geométricas para recortar (Anexo para trabajar) y se solicita que arme una figura compuesta. (Pegarla en el cuaderno de asignatura)





UTP – Colegio Isabel Riquelme

