



Asignatura: Ciencias Sociales Historia y Geografía

Curso: 4° básico

Docente: Martin Peña Vial

Semana: del Lunes 15 de Junio al Viernes 19 de Junio

Días de atención consultas: Lunes a Jueves de 14:00 a 16:00 horas.

Contacto: martin.pena@colegio-isabelriquelme.cl

1.-OBJETIVO Y CONTENIDOS CONCEPTUALES

OBJETIVO DE APRENDIZAJE	CONTENIDOS
3°-OA3.-Explicar, con ejemplos concretos, cómo diferentes culturas y pueblos (como griegos y romanos de la Antigüedad) han enfrentado de distintas maneras el desafío de desarrollarse y satisfacer las necesidades comunes a todos los seres humanos.	Culturas y pueblos de Grecia y Roma. Desafíos de estos pueblos para desarrollarse y satisfacer sus necesidades como seres humanos.
OBJETIVO DE LA CLASE	HABILIDADES
Explicar como era el espacio geográfico que habitaron los Griegos y los Romanos, mar, montañas, y valles, el entorno greco romano.	Pensamiento temporal y espacial Análisis de información por medio de fuentes escritas o audiovisuales.

2.-GUIA

TERRITORIO



Localizada en la península de los Balcanes, fue una floreciente cultura que tuvo su origen unos 3.000 años a.C. y llegó a su pleno apogeo en la polis de Atenas, durante el siglo V a.C.



Se muestra la máxima extensión del imperio Romano, lograda en el año 117 a.C.

Abarcaba toda la cuenca mediterránea.

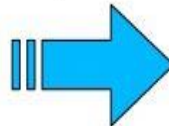


Ubicación Geográfica.


¿Cómo era el Paisaje que habitaban los Griegos?.



Un Paisaje Montañoso
Produjo que los pueblos
griegos vivieran
separados



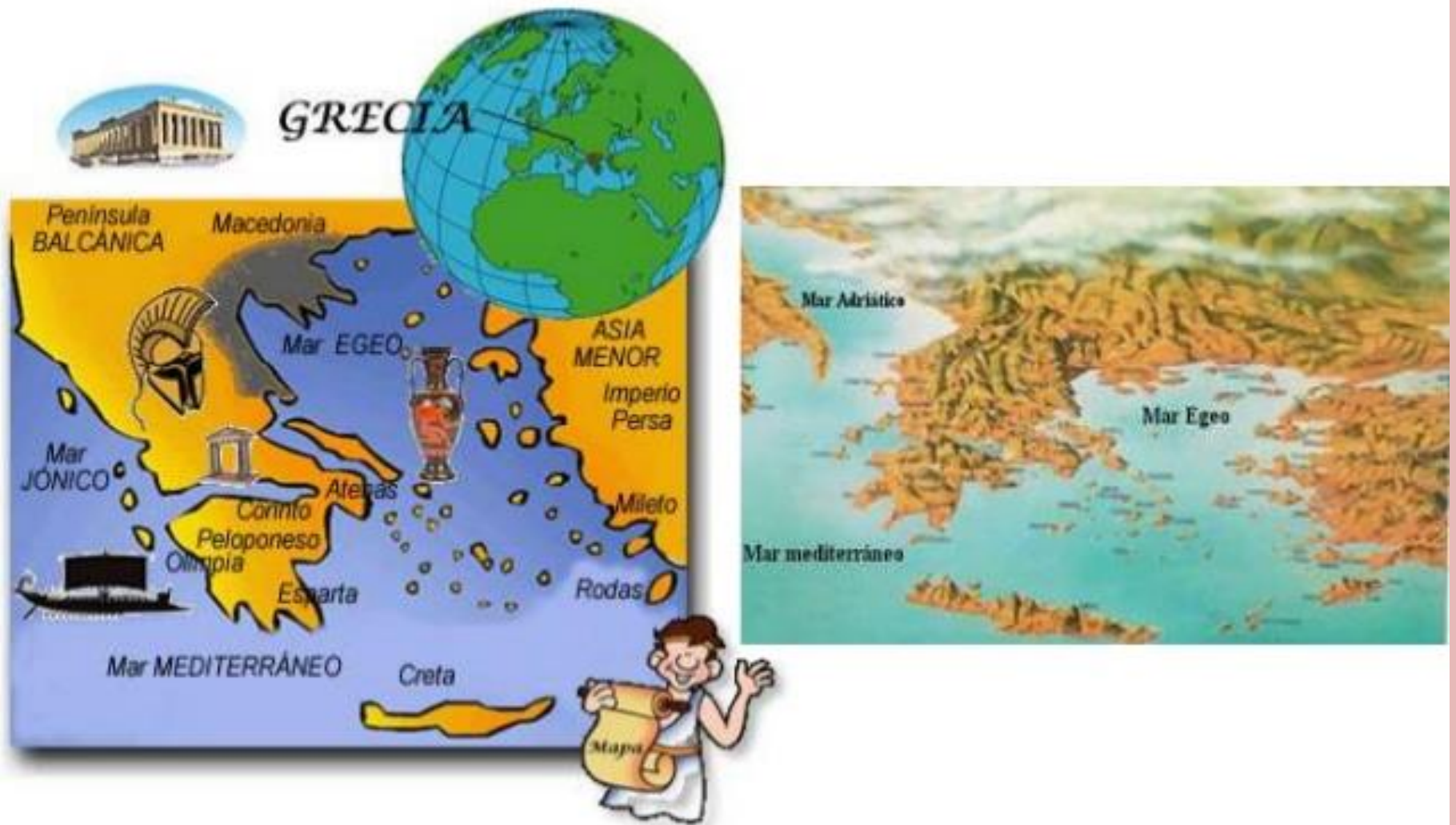
Pero los Griegos
aprovecharon su cercanía
con el Mar para
convertirse en:



Grandes Navegantes,
Aventureros y
Comerciantes



El entorno geográfico griego



LA CIVILIZACIÓN GRIEGA

Marco geográfico



INFLUYÓ

Numerosas montañas recorren el territorio y forman pequeños valles aislados.

Sus costas son escarmentadas, con numerosas islas y penínsulas

No formaron reinos o imperios, sino que en cada valle se desarrollaron ciudades-estado (**poleis**) independientes.

El mar los llevó a ser navegantes y buscar en otras tierras los productos que el suelo griego no ofrecía.

La Construcción Romana

Ubicación de Roma



La ubicación geográfica de la civilización romana antigua es la actual Italia, en el valle de las 7 colinas, cercanas al río Tiber, el mas importante de Italia. La cercanía de la ciudad a este río permitia obtener agua para el desarrollo de distintas actividades agrícolas y ganadera.

UBICACIÓN GEOGRAFICA DE ROMA

Ubicación Geográfica.- La cultura romana se desarrolló en la península Itálica, la cual se encuentra ubicada al sur de Europa, entre las penínsulas Ibérica y Balcánica. La península posee la forma de una "bota" y está surcada longitudinalmente por los montes Apeninos. Su territorio se caracteriza por presentar **tres regiones:**

- a) Italia continental,** pagada al continente e irrigada por el río Po. Antiguamente se la llamó Galia Cisalpina.
- b) Italia peninsular,** que ocupa el centro y sur, y termina en las penínsulas de Apulia y Calabria. Antiguamente se la conocía como la Magna Grecia.
- c) Italia insular, integrada por las islas cercanas a la península como Sicilia, Córcega y Cerdeña.** Antiguamente el territorio fue poblado por los ligures, italiotas, latinos, etruscos, griegos y galos.

LÍMITES.

- ✓ Por el norte con los Alpes.
- ✓ Por el sur con el Mediterráneo.
- ✓ Por el este con el mar Adriático.
- ✓ Por el oeste con el mar Tirreno.

Ubicación de Roma



GEOGRAFÍA DE ROMA

La civilización romana se ubico en la península Itálica y su centro originario fue la región de Lacio, a orillas del río Tíber, La urbe esta rodeada por siete colinas , siendo las mas importantes del Palatino y el Capitolino.



3.-TAREA

Objetivos de la Clase: Explicar como era el espacio geográfico que habitaron los Griegos y los Romanos, mar, montañas, y valles, el entorno greco romano.

Actividad: Con apoyo de las ilustraciones de esta guía de aprendizaje, responde en tu cuaderno las siguientes preguntas relacionadas con el tema, escríbelas en tu cuaderno, luego tus respuestas, responde en el mismo orden de las preguntas. Por favor observa, analiza e interpreta la información antes de responder. No tienes que imprimir nada, solo escribir y responder en tu cuaderno de Ciencias Sociales. Ante cualquier duda escribe al correo que esta al inicio de la guía.

- 1.- ¿Cómo explicarías lo que es el mar mediterráneo?
- 2.-¿Cómo era el paisaje que habitaron los griegos?
- 3.-¿Qué importancia tuvo el mar mediterráneo para los griegos ?
- 4.-¿Cómo describirías en forma resumida la ubicación geográfica de Roma?
- 5.-¿ Además del mar mediterráneo que otros mares puedes identificar en los mapas?
- 6.-¿Cómo se dividía el territorio de Roma, y cual era su característica principal?

4.-SOLUCIONARIO

- 1.- ¿Cómo explicarías el concepto mediterráneo?
- R.- Es un complejo de mares, y estos mares están partidos por islas, penínsulas, rodeado de montañas.

- 2.-¿Cómo era el paisaje que habitaron los griegos?
- R.- Era un paisaje montañoso, que separaba a los pueblos.

- 3.-¿Qué importancia tuvo el mar mediterráneo para los griegos ?
- R.- Su cercanía con el mar mediterráneo le permitió ser un pueblo navegante, aventurero y comerciante.

- 4.-¿Cómo describirías en forma resumida la ubicación geográfica de Roma?
- R.- Ubicada en la península Itálica, al Sur de Europa, y su territorio tiene forma de bota.

- 5.-¿ Además del mar mediterráneo que otros mares puedes identificar en los mapas del mediterráneo?
- R.- Mar Jónico, Mar Egeo, Mar mediterráneo, que en realidad es uno solo, partido por islas y penínsulas.

- 6.-¿Cómo se dividía el territorio de Roma, y cual era su característica principal?
- R.- Se dividía en tres territorios: Continental, pegado al continente. Peninsular. Insular. (no olvides el desafío)

- **DESAFÍO:** Podrías en un atlas u otra fuente buscar el significado de Isla y Península. Copia en tu cuaderno.

Importante: cualquier duda que tengas por favor escribe al mail que esta presente en todas las guías.

¡Gracias por tu esfuerzo!

5.-AUTOEVALUCION

Estimado estudiante, la presente autoevaluación tiene por finalidad que respondas con lo que has trabajado con la presente guía de Ciencias Sociales Historia y Geografía.

Marca con una X donde consideres tu autoevaluación del trabajo.

Indicadores de la evaluación	Si	No
He logrado entender la guía de trabajo.		
Las láminas entregan información importante.		
Puedo extraer datos importantes de las laminas de la guía.		
Logre entender lo que es ubicación geográfica.		
Logre responder sin usar el solucionario.		
Puedo explicar con mis palabras el concepto mediterráneo.		



“QUÉDATE EN CASA”