

COLEGIO ISABEL RIQUELME UTP

GUIA DIGITAL N°13

Asignatura: Ciencias Sociales Historia y Geografía


Curso: 4° básico

Docente: Martin Peña Vial

Semana: del Lunes 27 de Julio al Viernes 31 de Julio

Días de atención consultas: Lunes a Jueves de 14:00 a 16:00 horas.

Contacto: martin.pena@colegio-isabelriquelme.cl



Todos necesitamos a alguien,
cuídate mucho.

Con amor tu profesor

Un gusto de saludarlos estimados estudiantes, y saben que, pensándolo muy bien y detenidamente, me incluyo en esto, creo que es la pura y santa verdad:

Lo único
IMPOSIBLE
es
AQUELLO
que no
INTENTAS

The text is decorated with several hand-drawn elements: a large arrow pointing right and a smaller arrow pointing left, both with feathered tails, are positioned above the word 'es'. The word 'es' is enclosed in a decorative, cloud-like frame with a dashed border. Below 'AQUELLO', there is a small flower on the left and a butterfly on the right. Above the letter 'T' in 'INTENTAS', there is a small flower. At the bottom, there is a decorative flourish that ends in a heart shape.



1.-OBJETIVO Y CONTENIDOS CONCEPTUALES

OBJETIVO DE APRENDIZAJE	CONTENIDOS
<p>3°-OA4.-Comparar modos de vida de la Antigüedad con el propio, considerando costumbres, trabajos y oficios, creencias, vestimentas y características de las ciudades, entre otros.</p> <p>3°-9.-Caracterizar el entorno geográfico de las civilizaciones estudiadas, utilizando vocabulario geográfico adecuado (continente, valle, montaña, océano, río, archipiélago, mares, península, ciudad, construcciones y monumentos, entre otros).</p>	<p>Culturas y pueblos de Grecia y Roma, costumbres, trabajos, oficios, creencias, vestimentas entre otros.</p> <p>Vocabulario geográfico</p>
OBJETIVO DE LA CLASE	HABILIDADES
<p>Comparar modos de vida de Griegos y Romanos con las propias considerando su entorno inmediato.</p> <p>Caracterizar (describir características o cualidades importantes) del entorno geográfico greco-romano.</p>	<p>Pensamiento temporal y espacial.</p> <p>Análisis de información por medio de fuentes escritas o audiovisuales.</p>

2.-GUIA

HISTORIA ANTIGUA GRECIA + ROMA



John Mingo - Historian

2.-GUIA

¿En qué nos parecemos?

- Vida y costumbres de griegos y romanos.





- Los colores de las telas dependían tanto de las modas como del estatus social: los **esclavos** y **plebeyos** utilizaban ropas bastas de colores oscuros o terrosos, las **clases acomodadas** llevaban vestidos de colores vivos, ricamente bordados o teñidos en las tintorerías (*fullonicae*)







Los vestidos en Grecia y Roma



OFICIOS ROMANOS



El trabajo: tiendas, talleres y oficios

En las ciudades romanas había muchas tiendas, las llamadas *tabernae*, y talleres artesanos que vendían sus productos en el mismo lugar que los fabricaban.

Abundaban los panaderos, los tejedores, los zapateros, los ceramistas, los orfebres... También había muchos artesanos especialistas en actividades relacionadas con la construcción: vidrieros, pintores, canteros, carpinteros...

Otros talleres dependían directamente del Estado, como los de fabricación de armas. Algunos oficios más dependían también del gobierno de la ciudad, como los encargados de mantener el orden o los bomberos, de gran importancia porque los incendios eran frecuentes, sobre todo en los barrios populares, donde las casas se construían en buena parte de madera.



Legado romano

Los romanos dejaron en sus territorios conquistados: su lengua (latín), su literatura (comedia, oratoria, poesía), su religión, sus calzadas, acueductos, derecho romano, régimen de comidas (desayuno, almuerzo, merienda), organización familiar, rol de hombre y la mujer, educación, instituciones republicanas (senado, magistraturas) arte, ejercicios físicos, expansión de la cultura griega.

Del contacto entre ambas civilizaciones nació cultura “grecorromana” que posteriormente fue traspasada a otras regiones. Como a América a través la conquista española y portuguesa.


LOS OFICIOS

- Recordad que los griegos eran campesinos, pescadores y algunos eran comerciantes o artesanos
- Otras profesiones que aparecen son
 - Médico
- Recordemos a Asclepio y su mito.
- Hipócrates y el juramento hipocrático (clicad aquí para ver frases célebres)
 - Arquitecto
- Tengamos en cuenta su importancia en la construcción de templos, teatros y estadios.
- Fidias es el encargado de reconstruir el Partenón durante el Siglo de Oro de Pericles, junto a Calícrates y Actino.
- Para saber más clicad aquí

Los Oficios según la Pirámide Social en Grecia antigua.



Pirámide social

- **Ciudadanos:** tenían derecho a participar en la política(votando y siendo elegidos) Eran los aristócratas, agricultores.
- **No ciudadanos:** carecían de derechos políticos. Eran los extranjeros, metecos en Atenas y periecos en Esparta. La mayoría eran artesanos y comerciantes.
- **Esclavos:** carecían de libertad. Eran la principal fuerza de trabajo en agricultura, industria artesanal y servicios domésticos.
- La mujer no tenía ningún papel político y las ricas casi no salían de casa. Las pobres trabajaban en el comercio, artesanía o en el servicio doméstico.



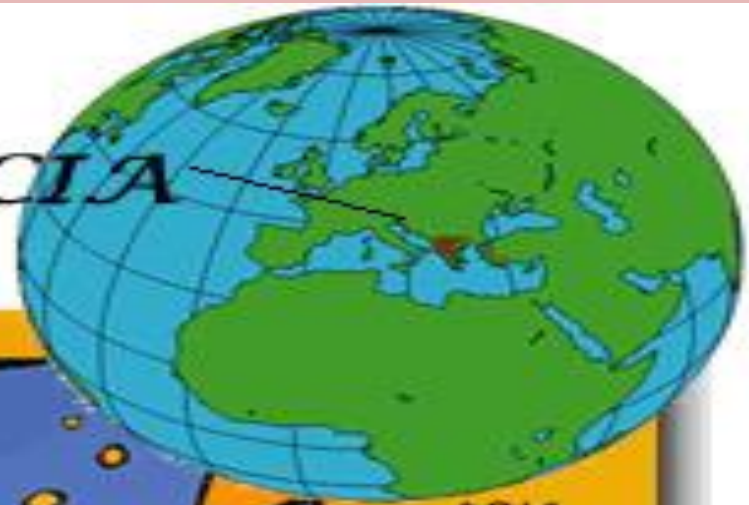
El legado griego

- Matemática
- Medicina
- Literatura:
- poemas homéricos.
- Lírica
- Tragedia
- Comedia





GRECIA





■ Imperio romano



- Ambas culturas se desarrollaron en dos penínsulas del sur de Europa; los **griegos en la península balcánica** y los **romanos en la península itálica**.



- **Clima mediterráneo**; estaciones marcadas, inviernos lluviosos y veranos secos.

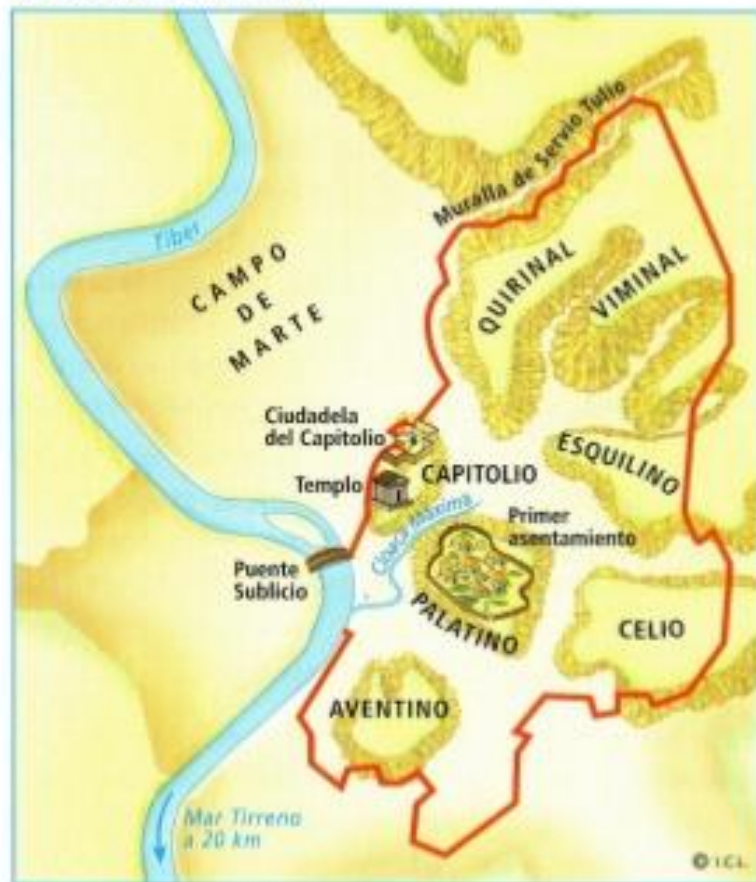
RELIEVE Y CLIMA

La Península griega es una zona de clima templado donde se pueden cultivar cereales, vid, el higo y el olivo. Es un territorio muy montañoso, de suelo rocoso, con ríos torrentosos en invierno y de escaso caudal en verano.

Estas características fueron determinantes para la formación del espíritu libre de los griegos, que, junto al aislamiento territorial hacia el norte, incentivó la importancia de la navegación por el Egeo y sus islas, y el desarrollo del comercio con la Grecia asiática.

Situación de Roma

LA ROMA PRIMITIVA



LA UBICACIÓN DE ROMA

No es sin motivo por lo que los dioses y los hombres han escogido este emplazamiento para fundar Roma: colinas con clima saludable, un río por donde descenden los productos del interior del país y accesible al comercio marítimo; en resumen, una situación única en el centro de Italia.

TITO LIVIO: *Historia de Roma*. Siglo I a.C.

- ¿Qué ventajas presentaba el territorio de Roma para el emplazamiento de una ciudad?

Océanos

Diferencia entre Océano y Mar

Los **mares continentales** están dentro de los continentes y se comunican con los océanos a través de un estrecho de escasa profundidad

Tienen mareas con escasa amplitud



Los Continentes y Océanos

Los Continentes:

Un continente es cada una de las grandes extensiones en que se divide la superficie terrestre, separadas entre sí por los




Montaña

Partes de la montaña

- Pie.
- Ladera.
- Pico.

Ríos de montaña.

- En la montaña nacen muchos ríos:
- Son estrechos.
 - Llevan poco agua.
 - Sus aguas son rápidas.



Los valles transversales son una serie de cordones montañosos que nacen desde los Andes y se desplazan hacia la costa. Éstos rempazan a la depresión intermedia



3.-TAREA

Objetivos de la Clase: Comparar modos de vida de Griegos y Romanos con las propias considerando su entorno. Caracterizar (describir características o cualidades importantes) del entorno geográfico greco-romano.

Actividad: Con apoyo de las ilustraciones de esta guía, responde en tu cuaderno las siguientes preguntas relacionadas con el tema, escríbelas en tu cuaderno, luego tus respuestas. Por favor observa, analiza e interpreta la información antes de responder. Explica con tus palabras, lo que entiendas sobre el comparar el modo de vida, de los Griegos y Romanos, como también describir algunas cualidades de su entorno geográfico donde vivieron.

- 1.- ¿ Si comparamos ambas civilizaciones que aspecto consideras que es importante en la vestimenta greco romana, en relación a la condición de ser hombre o mujer?
- 2.-¿Crees tu que heredamos de los greco romanos la forma de vestir, la moda, el estilo, colores?
- 3.-¿Qué actividades u oficios de los grecorromanos se mantienen hasta ahora en nuestra sociedad?
- 4.-¿Estas de acuerdo que los oficios o labores humanas estén condicionadas al estrato social considerando la pirámide social de los griegos, ocurre esto en la actualidad?
- 5.-¿Analizando los mapas, qué importancia la asignas al mar mediterráneo para los griegos y romanos, y en que continente actual se ubicaban ambas civilizaciones?
- 6.-¿De acuerdo a la ubicación geográfica que tenían y considerando elementos del paisaje natural de los grecorromanos, cómo definirías montaña, valle, ríos , mar, océano, continente?

4.-SOLUCIONARIO

- 1.- ¿ Si comparamos ambas civilizaciones, que aspecto consideras que es importante en la vestimenta greco romana, en relación a la condición de ser hombre o mujer? R.- No tenían limitaciones ni tampoco diferencias muy marcadas, por cuanto sus vestimenta tenían similares características, las chalas y vestidos eran comunes en ambos sexos.
- 2.-¿Crees tu que heredamos de los greco romanos la forma de vestir, la moda, el estilo, colores? R.- Los colores en las telas, como también los bordados y las clases sociales, tenían diferencias y niveles sociales igual que ahora.
- 3.-¿Qué actividades u oficios de los grecorromanos se mantienen hasta ahora en nuestra sociedad? R.- El comercio, los panaderos, los orfebres, navegantes, poetas, músicos, senadores, el derecho, arquitectura, arte, entre muchas otras actividades.
- 4.-¿Estas de acuerdo que los oficios o labores humanas estén condicionadas al estrato social considerando la pirámide social de los griegos, ocurre esto en la actualidad? R.- No estoy de acuerdo por cuanto creo que todos los seres humanos tienen los mismos derechos para acceder a diferentes oficios, profesiones o actividades para desarrollarse como personas. En la actualidad no todos tienen acceso a ciertas profesiones por falta de recursos, para financiar la carreta, solo algunos pueden acceder a ellas y otros con mucho esfuerzo lo logran, son los menos.
- 5.-¿Analizando los mapas, qué importancia la asignas al mar mediterráneo para los griegos y romanos, y en que continente actual se ubicaban ambas civilizaciones? El mar mediterráneo era la vía de comunicación mas importante de esa época, que era utilizado como vía marítima y de comunicación para comercializar productos entre ciudades ribereñas, como también ser grandes navegantes. Se ubicaban en el continente europeo.
- 6.-¿De acuerdo a la ubicación geografía y considerando los elementos del natural de los grecorromanos cómo definirías montaña, valle, ríos , mar, océano, continente?
 - R.- Montaña, grandes elevaciones de terreno.
 - Valle: son planos de terreno que se desplazan entre dos montañas.
 - Ríos: corrientes de aguas que nacen de las montañas por derretimiento de nieve o vertientes.
 - Mar: porción de tierra del continente que se encuentra rodada de agua.
 - Océano,: grandes extensiones de masas de agua que unen a los continentes.
 - Continentes: grandes extensiones de tierra en que se divide el planeta.

AHORA A TRABAJAR UN POCO NUESTRO CEREBRITO, PIENSA ANTES DE RESPONDER POR FAVOR.

« TICKET DE SALIDA »

REMITE A MI CORREO ELECTRONICO QUE APARECE EN ESTA GUIA, TU RESPUESTA A LA BREVEDAD.

1.-¿Según la lamina sobre «El legado romano» como adquirimos o fuimos influenciados en América, por las civilizaciones de Grecia y Roma en la actualidad?

R.....
.....

2..- ¿Cuál es tu opinión sobre la Pirámide Social de los griegos?

R.....
.....

GRACIAS POR TUS RESPUESTAS, Y NO TE OLVIDES DE ENVIARLAS AL CORREO. COLOCA TU PRIMER NOMBRE Y APELLIDO Y TAMBIEN TU CURSO POR FAVOR.

5.-AUTOEVALUCION

Estimado estudiante, la presente autoevaluación tiene por finalidad que respondas con lo que has trabajado con la presente guía de Ciencias Sociales Historia y Geografía.

Marca con una X donde consideres tu autoevaluación del trabajo.

Indicadores de la evaluación	Si	No
Logre interpretar la guía.		
Las láminas entregan información importante.		
Pude extraer datos sobre Grecia y Roma.		
Logre entender lo que es un oficio.		
Logre responder sin usar el solucionario.		
Puedo explicar en pocas palabras la importancia del mar mediterráneo.		



“QUÉDATE EN CASA”