

Reglas del aula virtual



Recuerda ser puntual

Coloca el micrófono en silencio



Escribe en el chat tus preguntas



Respeto a tus compañeros



Evita distracciones



Reglas del aula virtual



Recuerda ser puntual

Coloca el micrófono en silencio



Escribe en el chat

Ahorra tinta Eco



Colegio Isabel Riquelme
UTP
Rancagua

GUÍA DIGITAL N° 20

Asignatura	GEOMETRIA
curso	Cuarto A
Docente	Claudia Rojas Osorio
contacto	Claudia.Rojas@colegio-isabelriquelme.cl
Semana	09 AL 13 de noviembre 2020
Días de atención	Martes de 10 ^o a 11 ^o horas.

HOY TENEMOS UN NUEVO DESAFIO Y SERA.....



OBJETIVO	CONTENIDO
OA27: Leer e interpretar pictogramas y gráficos de barra simple con escala, y comunicar sus conclusiones.	Pictograma
OBJETIVO DE LA CLASES	HABILIDADES
En esta clase aprenderás a responder preguntas de pictogramas (sin escala).	Observar Interpretar Leer
INDICADOR A EVALUACIÓN: Leen e interpretan pictogramas y gráficos de revistas y diarios.	

Pienso, me interesa e investigo



De los Pictogramas

Guía: Esta semana veremos ...

PICTOGRAMAS

Escribe en tu cuaderno la siguiente información.

El pictograma es un gráfico que usa dibujos o símbolos para representar datos y permite comparar información.

El siguiente pictograma muestra las preferencias de juegos de algunos niños. Cada símbolo representa una preferencia. Cada niño votó solo por un juego.

El siguiente pictograma muestra las preferencias de juegos de algunos niños. Cada símbolo representa una preferencia. Cada niño votó solo por un juego.




Del pictograma podemos leer lo siguiente:

- Cada niño encuestado prefiere bicicleta, patines o balón.
- El juego con mayor preferencia es el balón.
- El juego con menor preferencia son los patines.
- 4 niños prefieren la bicicleta como juego.
- 2 niños prefieren los patines como juego.
- 6 niños prefieren el balón como juego.
- Entre otras lecturas.

PAUSA ACTIVA: Les dejo unos ejercicios

https://www.youtube.com/watch?v=T8jI4RnHHf0&list=PLWADeSzJwKYdg00qOlx_UpxL-pORANrS6




Tarea:

Escribe y resuelve en tu cuaderno, cada una de las siguientes actividades.

Copia los siguientes pictogramas en tu cuaderno y responde las preguntas.

1. Preferencias del medio de transporte para llegar a la escuela.
Cada persona votó solo por un medio de transporte.



 = 1 preferencia




- a) ¿Cuántas personas prefieren la bicicleta? _____
- b) ¿Cuántas personas prefieren el microbús? _____
- c) ¿Cuál es el medio de transporte con más preferencia? _____

CREETELO



TU PUEDES HACERLO
memegenerator.es

2. Preferencia de almuerzos. Cada persona seleccionó solo por un almuerzo.

Porotos	
Arroz	
Fideos	



= 1 preferencia

- a) ¿Cuántas personas prefieren comer fideos? _____
- b) ¿Cuántas personas prefieren comer arroz? _____
- c) ¿Cuál es la comida con menos preferencia? _____

A partir del siguiente pictograma resuelve las preguntas 1, 2 y 3

Luagres preferidos de algunos estudiantes para pasear

El parque	
El cine	
El circo	
El museo	

 = 1 preferencia

1

¿Cuántos estudiantes prefieren pasear en el museo?

- a) 5
- b) 8
- c) 9
- d) 10

2

¿Cuántos estudiantes prefieren ir al cine?

- a) 5
- b) 8
- c) 9
- d) 10

3

¿Cuál es el lugar con mayor preferencia?

- a) El parque
- b) El museo
- c) El circo
- d) El cine

Solucionario



Desarrollo:

1.
 - a) 4.
 - b) 9
 - c) Microbús
2.
 - a) 7
 - b) 8
 - c) Porotos

Cierre

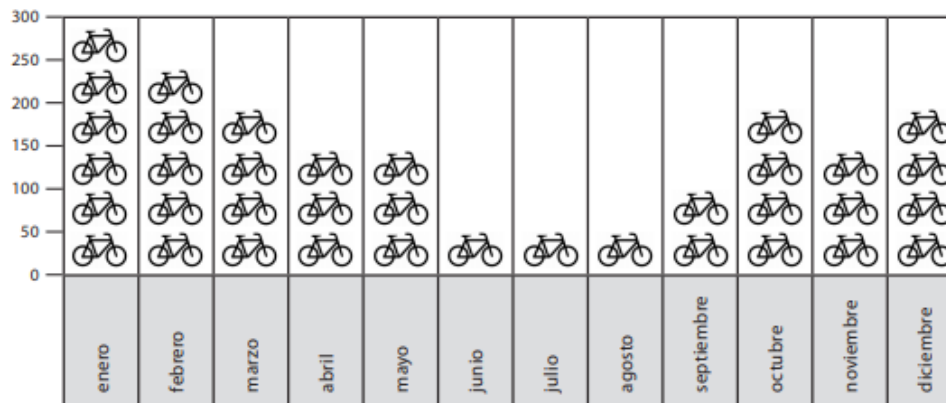
1. a)
2. b)
3. a)

TICKET DE SALIDA: Recuerda enviar una fotografía a tu profesora.

INDICADOR A EVALUACIÓN: Leen e interpretan pictogramas y gráficos de revistas y diarios.

Información para responder las preguntas 10 y 11

El siguiente pictograma muestra la cantidad de bicicletas que circularon mensualmente por un parque:



¿Cuántas bicicletas circularon en el mes de agosto?

- A. 1 bicicleta.
- B. 3 bicicletas.
- C. 50 bicicletas.
- D. 150 bicicletas.

¿Cuántas bicicletas más circularon en enero que en junio?

- A. 300 bicicletas.
- B. 250 bicicletas.
- C. 200 bicicletas.
- D. 5 bicicletas.

AUTOEVALUACIÓN: Esta evaluación debes copiarla e tu cuaderno y luego marcar con una x lo que has logrado en esta actividad

Indicador	Logrado	Por lograr
Mantengo mis tareas ordenadas y limpias		
Cumpló con las tareas en el tiempo dado		
Sigo las instrucciones de las actividades, realizando lo que se solicita.		
Reconozco la información que los pictogramas me entregan		
Puedo responder preguntas con la información entregada en los pictogramas		





CoMo No
teNeR  EL CoRazÓN
gRaNDote
SI ESTÁ lleNito
de ToDoS MiS
aLuMNI@s