



Colegio Isabel Riquelme  
U.T.P.

## TAREA DIGITAL N° 5

**ASIGNATURA: TALLER DE GEOMETRÍA**

**CURSO: 4° AÑO A**

**DOCENTE: CLAUDIA ROJAS O**

**CORREO DOCENTE: [claudia.rojas@colegio-isabelriquelme.cl](mailto:claudia.rojas@colegio-isabelriquelme.cl)**

**ATENCIÓN DE APODERADO: JUEVES DE 11,00am A 12,00**

**SEMANA: Del 11 al 15 de Mayo**

**OBJETIVO DE LA CLASE: Comprender y describir características de figuras 2D**



**CONTENIDOS: Los Polígonos**

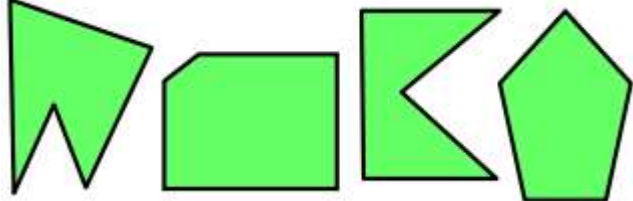




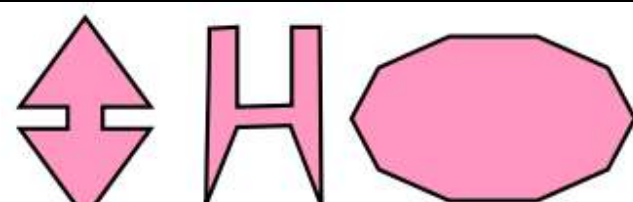
Queridos alumnos, deseo que se encuentren bien junto a sus familias en estos días tan especiales de pandemia, "al mal tiempo buena cara", te invito a trabajar con responsabilidad, alegría y la honestidad que los caracteriza, recuerda poner lo mejor de ti, ya es tu avance académico.

Como ya te lo presenté en la Guía correspondiente a estas actividades, veremos y conoceremos las figuras 3D y sus elementos. Así que manos a la obra

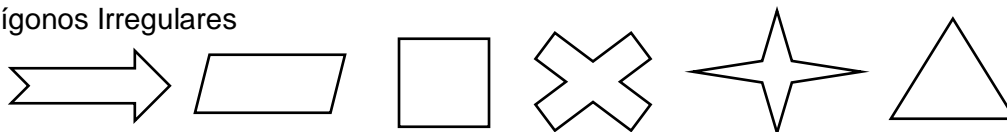
### GUÍA DE TRABAJO

1. —Observa las imágenes y completa con números de lados que observas y nombre del polígono


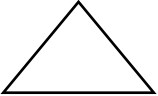

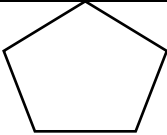
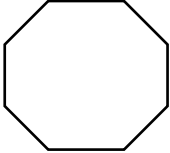
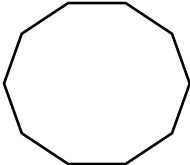
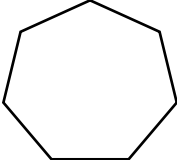
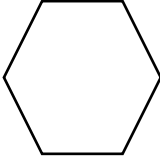
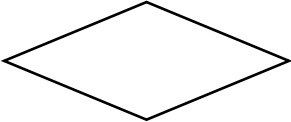


Figuras Poligonales	N° de lados	Nombre del Polígono
		
		

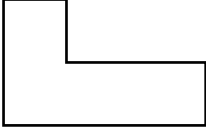
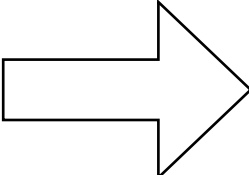


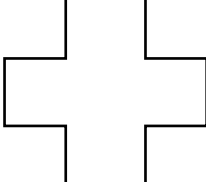

		
		
		
		
		
		

2.- En las siguientes figuras, colorea de color rojo los polígonos regulares y de color azul los polígonos Irregulares



3.- Completa el cuadro con la información que se te pide, de acuerdo a las figuras presentadas en su regularidad marca un  y en los demás cuadros con números de lados y vértices

Figura	Regular ✓	Irregular ✓	Nº lados	Nº vértices
				
				
				
				
				
				
				
				
				
				
				



Colegio Isabel Riquelme  
U.T.P.

## TAREA DIGITAL N° 5

**ASIGNATURA:** Taller de Geometría

**CURSO:** 4° AÑO A

**DOCENTE:** CLAUDIA ROJAS O

**CORREO DOCENTE:** [claudia.rojas@colegio-isabelriquelme.cl](mailto:claudia.rojas@colegio-isabelriquelme.cl)

**ATENCIÓN DE APODERADO:** JUEVES DE 11,00am A 12,00



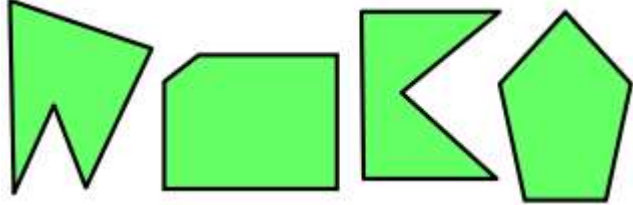
**SEMANA:** DEL 11 AL 15 DE MAYO





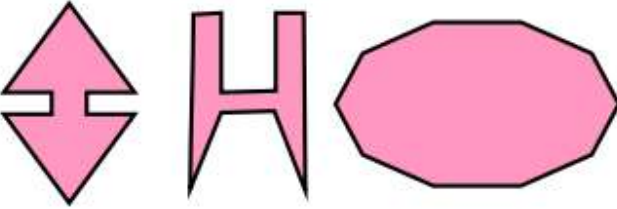
**OBJETIVO DE LA CLASE:** Demostrar que reconoce las figuras 3D, e identificar los elementos que los componen.

Ahora ha llegado el momento de revisar nuestro trabajo, Analiza muy bien las respuestas esperadas y compara con las tuyas, si has cometido un error es momento de analizar el por qué, y corregirlo, recuerda siempre los errores son instancias de aprendizajes, te felicito por lo que paso a paso vas logrando


### SOLUCIONARIO

1. —Observa las imágenes y completa con números de lados que observas y nombre del polígono

Figuras Poligonales	N° de lados	Nombre del Polígono
	3	Triángulos
	4	Cuadriláteros
	5	Pentágonos

	6	hexágonos
	7	Heptágonos
	8	Octágonos
	9	Eneágono
	10	Decágono


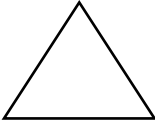

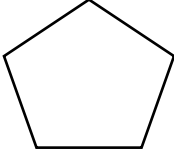
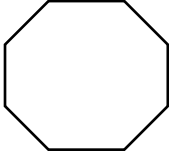
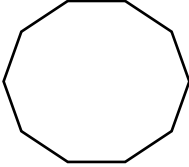
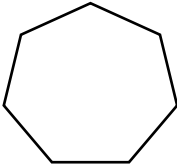
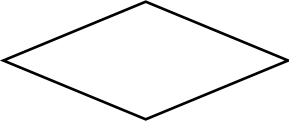


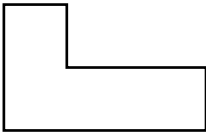
2.- En las siguientes figuras, colorea de color amarillo los polígonos regulares y de color verde los polígonos Irregulares

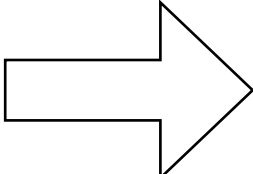

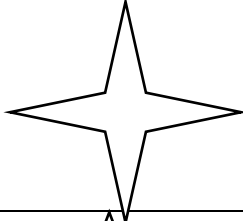





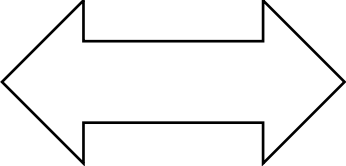



3.- Completa el cuadro con la información que se te pide, de acuerdo a las figuras presentadas

y en los demás cuadros con números de lados y vértices.

Figura	Regular	Irregular	Nº lados	Nº vértices
	<input checked="" type="checkbox"/>	<input checked="" type="checkbox"/>		

	<input checked="" type="checkbox"/>	<input checked="" type="checkbox"/>	4	4
	<input checked="" type="checkbox"/>	<input type="checkbox"/>	3	3
	<input type="checkbox"/>	<input checked="" type="checkbox"/>		
	<input checked="" type="checkbox"/>	<input type="checkbox"/>		
	<input checked="" type="checkbox"/>	<input type="checkbox"/>		
	<input checked="" type="checkbox"/>	<input type="checkbox"/>		
	<input checked="" type="checkbox"/>	<input type="checkbox"/>		
	<input checked="" type="checkbox"/>	<input type="checkbox"/>		
	<input checked="" type="checkbox"/>	<input type="checkbox"/>		
	<input type="checkbox"/>	<input checked="" type="checkbox"/>		
	<input type="checkbox"/>	<input checked="" type="checkbox"/>		

MUY BUEN TRABAJO