



**Colegio Isabel Riquelme
U.T.P.**

GUIA DIGITAL 10

**ASIGNATURA: HISTORIA, GEOGRAFIA Y
CIENCIAS SOCIALES**

CURSO: 5° BÁSICO

DOCENTE: MARIA TERESA SERRANO C.

maría.serrano@colegio-isabelriquelme.cl

**DIAS ATENCIÓN CONSULTAS: Lunes a Jueves 18:00 a 19:00 horas por
el whatsapp del curso +56935165427**

Semana: del 22 al 26 Junio

1. OBJETIVOS Y CONTENIDOS CONCEPTUALES

<u>OBJETIVO DE APRENDIZAJE</u>	<u>CONTENIDOS</u>
Describir distintos paisajes del continente americano, considerando climas, ríos, población, idiomas, países y grandes ciudades, entre otros, y utilizando vocabulario geográfico adecuado. (OA 8)	Subcontinentes de América Relieves geográficos de América
<u>OBJETIVO DE LA CLASE</u>	<u>HABILIDADES</u>
Localizar subcontinentes de América en el mapa distinguiendo sus relieves geográficos	Localizar Ubicar Aplicar

2.-Guia Digital

Objetivo de la clase: Localizar subcontinentes de América en el mapa distinguiendo sus relieves geográficos

Nuestra Ruta de aprendizaje

Activación de aprendizaje
previos ubicar nuestro
continente



Hoy nos enfocaremos en el,
localizar subcontinentes de
América y sus relieves
recurriremos a diferentes fuentes
y video



Revisión de la actividad con el
solucionario



Recordaremos la ubicación de nuestro continente y los países que lo componen y sus relieves ,clima ,flora y fauna
Te invito a ver el video a continuación y realiza un resumen de lo observado.



<https://www.youtube.com/watch?v=Kli6SGs6Crs>



América en el mundo

América es el segundo continente más grande del planeta. Se localiza en el hemisferio occidental, abarcando norte-sur y se encuentra rodeado de océanos: el océano Pacífico, el Atlántico, el Glaciar Ártico y el Austral. Está constituido por tres subcontinentes: América del Norte, América Central y América del Sur. En estos espacios conviven distintos países y sociedades que se han adaptado a diversos tipos de paisajes. La separación de América en tres subcontinentes se debe a que existen distintos tipos de paisajes. Una de las características de los países que forman este continente es que todos fueron colonias de otros Estados durante un tiempo. ¿Cómo notamos esto? En aspectos culturales como el idioma, las formas de relacionarnos, las comidas y la religión, entre otros.



América del Norte

Es una amplia región que se extiende desde el polo norte hasta el inicio del istmo de Centroamérica. Fue colonizada por británicos, franceses y españoles y, por lo tanto, predominan en ella los idiomas inglés, francés y español.

América Central y el Caribe

América Central es un istmo o una franja angosta de tierra que une América del Norte con América del Sur. Al este del istmo se encuentra el mar Caribe, donde se ubican las islas Antillas, de origen montañoso. En América Central predominó la colonización española, por lo que en la mayoría de estos países se habla español. En el Caribe es posible encontrar otros idiomas, como inglés y francés.



América del Sur

Se extiende desde el fin del istmo centroamericano, en el norte de Colombia, hasta las islas Diego Ramírez, en el sur de Chile. Fue colonizada por portugueses y españoles y, por tanto, los idiomas predominantes son el portugués, en Brasil, y el español, en países como Argentina, Chile, Colombia y Venezuela, entre otros.

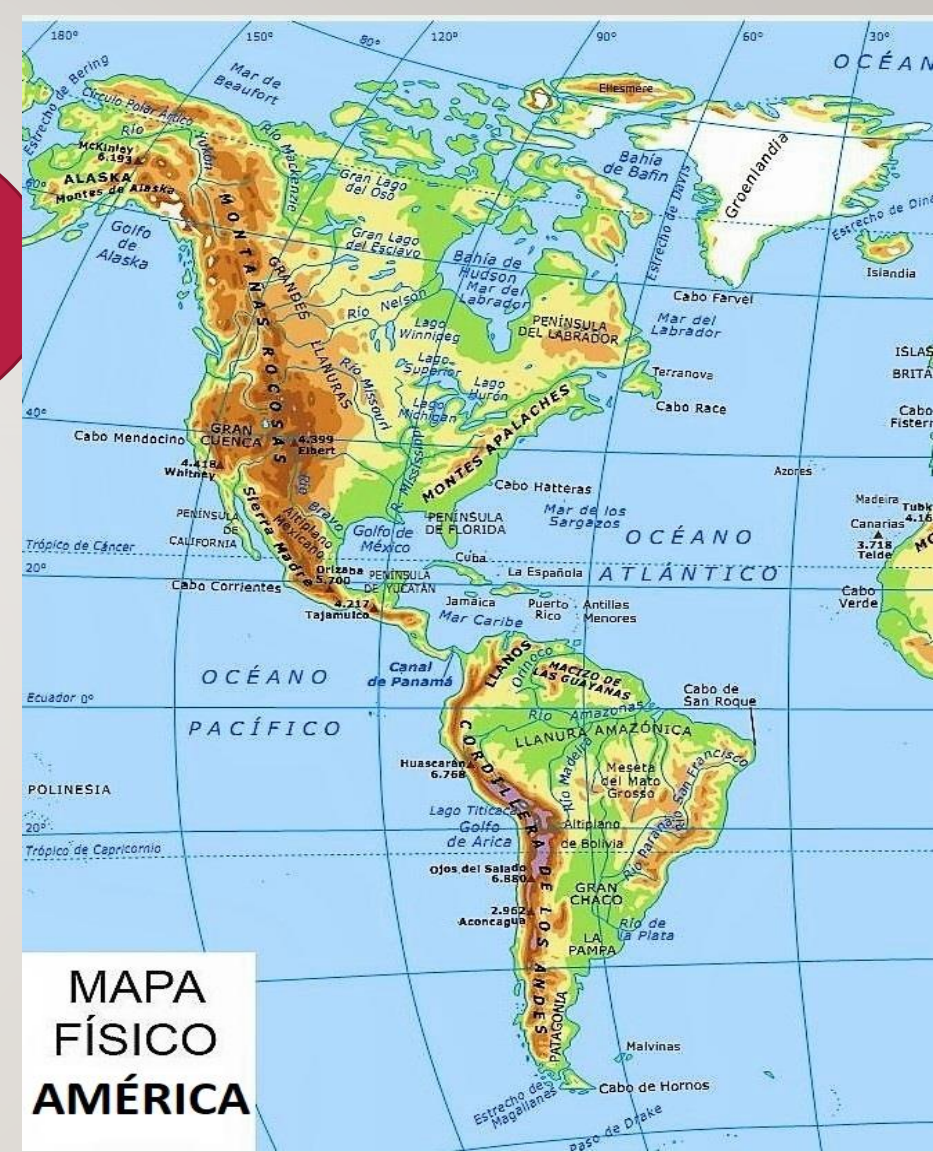




Veremos en el mapa físico de América con su relieve.
El relieve geográfico determina las formas que tiene la corteza de la tierra, como cordilleras u océanos.

Relieves Geográficos

Los relieves geográficos son un conjunto de irregularidades que presenta la superficie terrestre. Los relieves van cambiando, aunque estos cambios solo se ven en un cierto lapso de tiempo, pues son muy lentos, salvo cuando se producen terremotos o erupciones volcánicas. Ejemplos: Cordilleras, valles, islas, penínsulas, lagos, entre otros.



Relieves terrestres de América



Cordillera: Conjunto de montañas alineadas a lo largo de un eje que forman una unidad



Montaña: Elevación muy grande de tierra.



Llanura: Terreno muy plano, sin grandes elevaciones ni depresiones.



Valle: Terreno alargado de baja altura, que pudo haber sido creado por un río o por un glaciar.

Meseta: Terreno plano que se encuentra en altura. A veces se encuentra inclinada.



Accidentes Costeros

Cabo: Punta formada por una masa de tierra que se proyecta hacia el interior del mar



Golfo: Gran entrante del mar en la tierra con forma más o menos semicircular entre dos cabos.



Península: Extensión de tierra rodeada de agua por todas partes salvo por una, por donde está unida a un territorio de mayor tamaño.



Isla: Porción de tierra rodeada de agua por todas partes.

Aguas Superficiales



Ríos: Corriente natural de agua que fluye permanentemente y va a desembocar en otra, en un lago o en el mar



Lagos: Gran depósito natural de agua en una depresión del terreno, que recoge aguas pluviales, subterráneas o de uno o varios ríos.

3.- TAREA

- 1) ¿En qué hemisferios se encuentra América?
- 2) ¿En cuántos y como se llaman esos subcontinentes de América?
- 3) ¿Qué idioma predomina en América?
- 4) Nombra a lo menos 2 países de cada subcontinente
- 5) ¿En qué subcontinente se encuentra Chile?
- 6) ¿Que es un mapa físico y que significan sus colores?
- 7) Realiza un dibujo de un paisaje donde se observen al menos cuatro de las formas del relieve que vimos anteriormente.

Encuentra la diferencia

Hipnosis con Ana Maria



4.- Solucionario

Estimado alumno/a: a continuación, se presenta el solucionario de la actividad desarrollada, te ayudara para que revises de manera correcta tus respuestas, confió en tu honestidad y que lo utilizaras finalizada la actividad

1) ¿En qué hemisferios se encuentra América?

América se encuentra e el hemisferio Occidental, abarcando norte-sur y se encuentra rodeado de océanos: el océano Pacífico, el Atlántico, el Glaciar Ártico y el Austral.

2) ¿En cuántos y como se llaman esos subcontinentes de América?

América del Norte, América Central y América del Sur.

3) ¿Qué idioma predomina en América?

El idioma que predomina es el español.

4) Nombra a lo menos 2 países de cada subcontinente

Elección del alumno.



6.-¿ Que es un mapa físico y que significan sus colores?

El mapa físico es uno de los tipos de mapas con los que más frecuentemente podremos encontrarnos y se caracteriza por presentar representados los fenómenos naturales acaecidos sobre la geología de un terreno determinado.

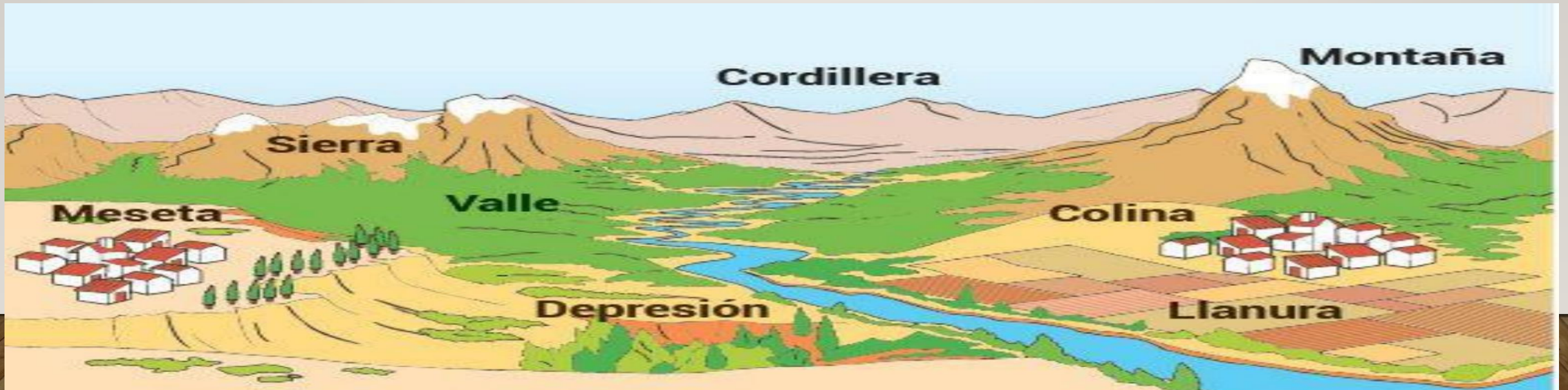
Se utilizan para esta representación diferentes colores:


verdes: para señalar las llanuras, depresiones o valles; las zonas de menor altura del terreno.

amarillo: para señalar las zonas de altura intermedia, mesetas y accidentes como los cerros y colinas.

marrón: representa las zonas muy altas.

7) Realiza un dibujo de un paisaje donde se observen al menos cuatro de las formas del relieve que vimos anteriormente. Ejemplos





5.- AUTOEVALUACIÓN



Criterios	Si	No
1.- Tuve los materiales necesarios para desarrollar la guía como cuaderno, lápices, texto de Historia		
2.- Observe con atención el video y logre hacer un resumen		
2.-Leí atentamente la información dada en la presentación		
3.-Fui capaz de desarrollar la guía en forma independiente		
4.-Logre aplicar el relieve en mi paisaje		
5.- Logre el objetivo de la clase:Localizar subcontinentes de América en el mapa distinguiendo sus relieves geográficos		

SEGUISTE LA CLASE CON ATENCIÓN, LEÍSTE CADA UNA DE LAS INSTRUCCIONES Y HAS APRENDIDO DE NUESTRO CONTINENTE LOS PAÍSES QUE LA INTEGRAN Y SU RELIEVE



¡Hiciste un excelente trabajo! Que tengas una buena semana. Nos juntamos en una próxima clase