



Colegio Isabel Riquelme

U.T.P.

GUÍA DIGITAL N°14

ASIGNATURA: Matemáticas

CURSO: Kínder

DOCENTE: Lucía Vargas Guerra

CONTACTO: lucia.vargas@colegio-isabelriquelme.cl, grupo WhatsApp

SEMANA: 13 al 17 de julio 2020

DÍAS ATENCIÓN CONSULTAS: martes a viernes 10:00 a 11.00

Jueves de 15:00 a 16:0

Viernes 15:00 a 16:00

Trabajando desde casa, he preparado esta guía con mucho cariño para que puedas aprender. No olvides que debes poner mucha atención a mamá cuando te enseña, y trabajar en un lugar cómodo y en silencio



OBJETIVOS DE APRENDIZAJE Y CONTENIDOS CONCEPTUALES.

<u>OBJETIVO DE APRENDIZAJE</u>	<u>CONTENIDO</u>
(8) Resolver problemas simples de manera concreta y pictórica agregando o quitando hasta 10 elementos, comunicando las acciones llevadas a cabo.	Sumar con material concreto Sumas hasta el diez
<u>OBJETIVO DE LA CLASE</u>	<u>HABILIDADES</u>
Conocer el signo más Resolver sumas simples, agregando objetos.	Crear Emplear Resolver Comunicar




GUÍAS

Sumas


Es la unión de dos cantidades, números.

$$5+3$$

Y también puede ser con material concreto agregar en dos grupos de elementos y se obtiene una cantidad como resultado.



Para sumar se usa el signo más.



Comenzaremos con un juego de iniciación a la suma

Three hearts + three hearts = 3 + 3 =

Four green pentagons + three yellow pentagons = 4 + 3 =

Five purple hexagons + one black hexagon = 5 + 1 =

Four orange circles + four purple circles = 4 + 4 =

Cuenta y muestra con tu dedo índice las figuras o elementos, suma, ahora da la respuesta. ¡Muy bien ya has sumado!

Sigamos ejercitando con las siguientes láminas.

4 orange circles + 5 orange circles =

5 green circles + 3 green circles =

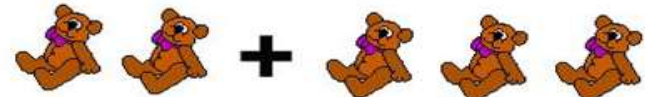
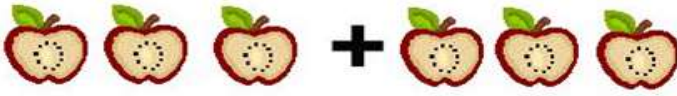




5 blue circles + 1 blue circle =

Busca juguetes y coloca la misma cantidad de las siguientes láminas.

3 chocolate candies + 1 chocolate candy =


3 yellow candies + 2 yellow candies =









2 red apples + 2 red apples =

	<input type="text"/>
	<input type="text"/>
	<input type="text"/>
	<input type="text"/>
	<input type="text"/>
	<input type="text"/>


TAREAS

En tu cuaderno de matemáticas debes trabajar con las sumas, dibuja, luego cuentes los elementos y posteriormente sumas, colocando el número que corresponde. Suerte. Enviare un video con sumas.



<p>a.</p>  $+$  $1 + 1 = \underline{\quad}$	<p>b.</p>  $+$  $2 + 1 = \underline{\quad}$
<p>c.</p>  $+$  $3 + 1 = \underline{\quad}$	<p>d.</p>  $+$  $4 + 1 = \underline{\quad}$

SOLUCIONARIO RESPUESTAS



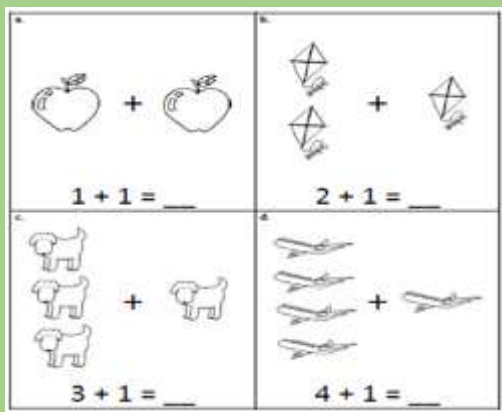
R 1 $2+3=5$

R 2 $1+2=3$

R 3 $4+6=10$

R 4 $2+7=9$

R 5 $1+4=5$



R1 $1+1=2$

R2 $2+1=3$

R3 $3+1=4$

R4 $4+1=5$

AUTOEVALUACIÓN

Evaluemos el trabajo realizado, marcar con una X según como tú consideres el trabajo que realizaste.

Indicadores	Siempre	A veces	En proceso
Trabajo con agrado en mis tareas			
Me esfuerzo en la realización de las tareas.			
Realizo sumas con objetos o juguetes de mi elección			
Copio las sumas en mi cuaderno			

TICKET DE SALIDA

¿Qué aprendimos hoy?

Realiza sumas envía fotos

1

$$\begin{array}{c} \text{soccer ball} + \text{soccer ball} + \text{soccer ball} \\ \text{soccer ball} \end{array} = \square$$

2

$$\begin{array}{c} \text{teddy bear} + \text{teddy bear} \\ \text{teddy bear} \end{array} = \square$$

3

$$\begin{array}{c} \text{toy car} + \text{toy car} \\ \text{toy car} \end{array} = \square$$



Un abrazo grande
de las tías.