



Colegio Isabel Riquelme  
UTP  
Rancagua

# GUÍA DIGITAL N° 27

# CREETELO



# TU PUEDES HACERLO

[memegenerator.es](http://memegenerator.es)

Asignatura	PENSAMIENTO MATEMÁTICO
curso	Kínder
Docente	Lucia Vargas Guerra, Paulina Cea Fuentes
contacto	<a href="mailto:lucia.vargas@colegio-isabelriquelme.cl">lucia.vargas@colegio-isabelriquelme.cl</a> ; <a href="mailto:paulina.cea@colegio-isabelriquelme.cl">paulina.cea@colegio-isabelriquelme.cl</a>
Semana	26 AL 30 de octubre 2020
Días de atención	Martes a viernes de 10 <sup>o</sup> a 11 <sup>o</sup> horas.

# Queridos niños y niñas, hoy es nuevo día para aprender, ahora te contare lo que haremos en esta guía.

OBJETIVO	CONTENIDO
(6) Emplear los números para contar, identifica, cuantificar y comparar cantidades hasta el 20 indicar orden o posición de algunos elementos en situaciones cotidianos o juegos.	Número 16
OBJETIVO DE LA CLASES	HABILIDADES
Emplear el número 16 para contar, identificar, cuantificar y comprara cantidades utilizando material concreto, pictórico y simbólico.	Describir Expresar Explicar Crear/ dibujar
<b>INDICADOR A EVALUACIÓN :</b> Asocia número 16 con cantidad.	



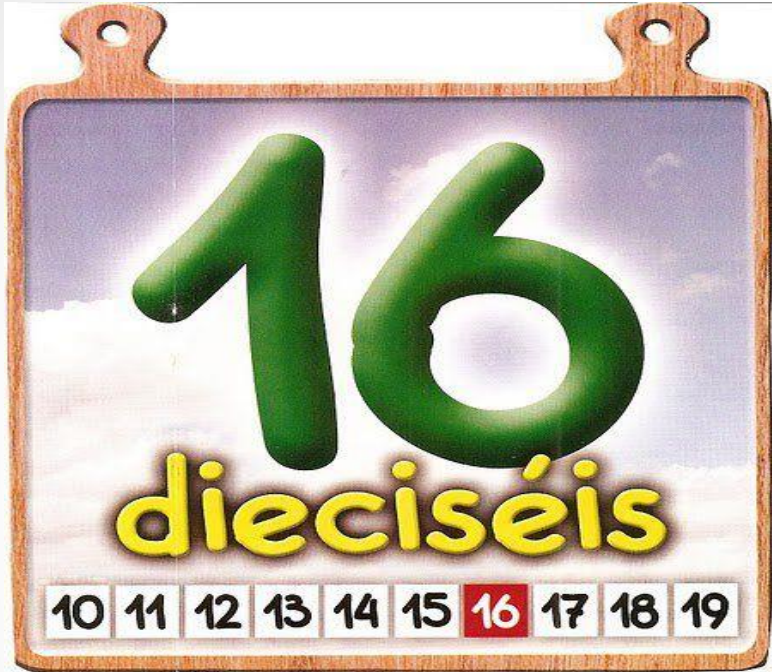
# Pienso, me interesa e investigo

¿Cuál es el número 16?

¿Qué número esta antes del 16?

¿Qué número esta después del 16?

# Guía: Esta semana trabajaremos con el número 16



Los invito a contar en voz alta y con Sus dedos hasta llegar al 16.

00000000

00000000



+



= 16

Ahora contemos de 2 en 2 hasta llegar a 16.

## AGRUPAR DODOS DE 2 EN 2



2



4



6



8



10



12



14



16

PAUSA ACTIVA: Les dejare un baile entretenido.

<https://www.youtube.com/watch?v=XqZsoesa55w>






**Baby Shark**

# Tarea:





**Tarea** Te invito a buscar un lugar cómodo participar en clases online y trabajar en tu cuaderno en compañía de las tías.

	<p>Pinta los 16 círculos y grafica</p>  
<p>Antecesor y sucesor</p> <p>____ 15 ____</p> <p>____ 13 ____</p> <p>____ 14 ____</p> <p>____ 11 ____</p>	<p>Graficar 16</p>



# Solucionario




	<p>Pinta los 16 círculos y grafica</p> 
<p>Antecesor y sucesor</p> <p>14 15 16 12 13 14 13 14 15 10 11 12</p>	<p>Graficar 16</p> <p>16 16 16 16 16 16 16 16</p>

**TICKET DE SALIDA:** Recuerda enviar una fotografía a tu profesora.

**INDICADOR A EVALUACIÓN:** Asocia número 16 a cantidad.

Dibuja 16 elementos en tu cuaderno y grafica el número a un costado.

16



## Autoevaluación:

Esta evaluación debes copiarla en tu cuaderno y marcar (x) lo que has logrado en esta actividad.

Indicador	Logrado	Por lograr
Mantengo mis tareas ordenadas y limpias		
Cumplo con las tareas en el tiempo dado		
Sigo las instrucciones de las actividades, realizando lo que se solicita.		
Reconozco al número 16 entre otros números		
Asocio el número 16 a cantidad		
Identifico el antecesor y sucesor de los números dados en la guía		
Cuento hasta 16 de forma consecutiva.		

¡Buen trabajo!

