



Colegio Isabel Riquelme

UTP

GUÍA DIGITAL N° 3

TAREA

ASIGNATURA: Matemática

CURSO: NT1

DOCENTE: Edith Estay Valdés

SEMANA: 27 al 30 de Abril 2020

OA: Utilizar categorías de ubicación espacial .

Sugerencia: En caso niño manifieste dificultad para resolver el ejercicio, oriéntelo personalmente en forma afable, sin entregar respuestas.

Actividad: Catalina está buscando alimentos para llevar colación a la escuela su madre le dice que lleve:

1. La fruta que está afuera de la canasta.
2. El queque que está debajo del jugo.
3. La caja de leche que está cerca de la lonchera.

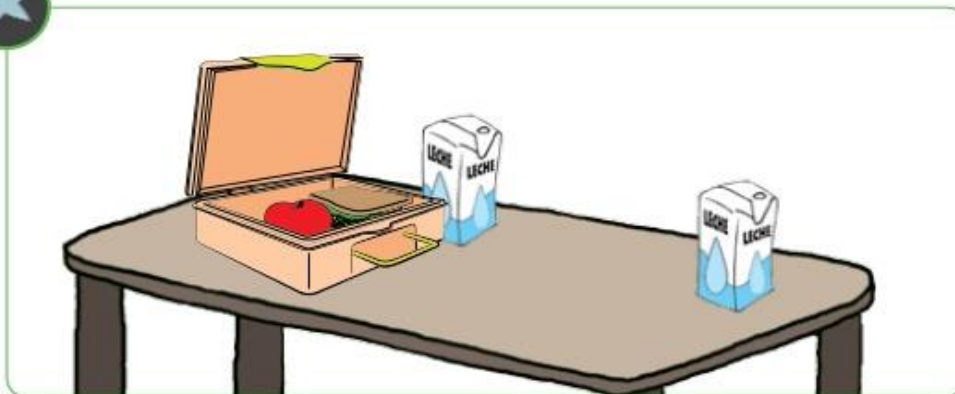
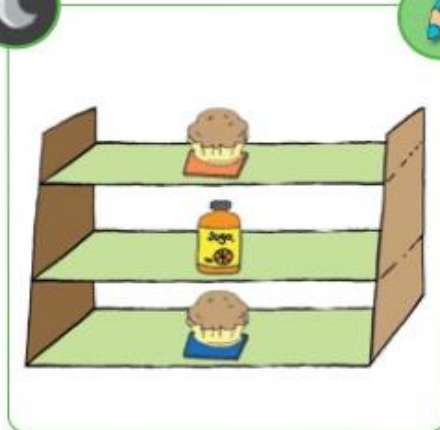


Experiencia de Aprendizaje **Nº 14**



¿DÓNDE ESTÁ EL OBJETO?

- Catalina está buscando su colación.
- Escucha atentamente las indicaciones que entregará tu educadora y marca los alimentos que llevará Catalina.





Colegio Isabel Riquelme

UTP

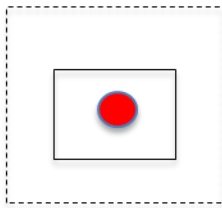
SOLUCIONARIO:

- 1.El plátano
- 2.El queque con plato azul
3. La caja de leche está cerca de la lonchera

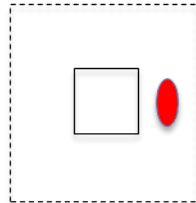
Felicitaciones lo has hecho súper bien.

ACTIVIDAD ANEXA: Texto NT1 Educación Parvularia. Página 7

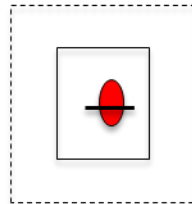
Significado íconos:



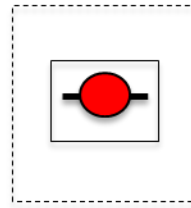
Dentro



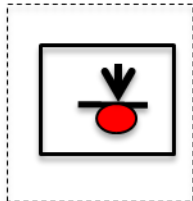
Fuera



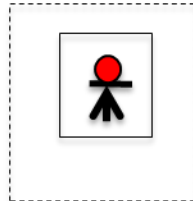
Detrás de



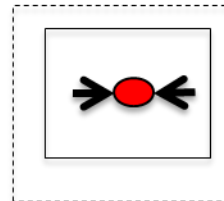
Delante de



Debajo de



Encima de



Entre

, .Te quiere mucho tu profesora Edith. Te felicito por tu responsabilidad en tus tareas.